

# POSTEST

Nama : AUGEL RAHMAHANI

Kelas : 3

98

I. Jawablah pertanyaan di bawah ini dengan cara memberikan tanda silang pada salah satu jawaban benar!

1. Apa nama bangun datar yang memiliki satu sisi miring dan salah satu sudutnya berbentuk siku-siku?

- ☒ a. Segitiga siku-siku      b. Persegi      c. Lingkaran

2.



Toni mempunyai mainan berbentuk segitiga. Ketiga sisi mainan sama panjang. Ketiga pojoknya sama besar. Berbentuk bangun apakah mainan Toni tersebut?

- a. Persegi panjang      b. Layang-layang      ☒ c. Segitiga sama sisi

3.



Nila membuat sapu tangan. Panjang masing-masing sisinya 20 cm. Keempat pojoknya siku-siku. Berbentuk bangun apakah sapu tangan yang dibuat Nila?


- ☒ a. Persegi      b. Segitiga siku-siku      c. Persegi panjang



4. Pak Arifin berkunjung ke Candi Dermo pada hari Minggu. Saat memasuki wilayah candi, Pak Arifin melihat ada sebuah taman berbentuk segiempat di depan Candi. Taman tersebut memiliki 2 pasang sisi yang berhadapan sama panjang dan sejajar serta memiliki 4 sudut siku-siku. Berbentuk bangun apakah taman yang dilihat Pak Arifin?

- ☒ a. Persegi panjang      b. Lingkaran      c. Jajar genjang

5.



Ibu mempunyai kue berbentuk segitiga. Kedua sisi kue itu sama panjang. Kedua pojoknya sama besar. Berbentuk apakah kue ibu tersebut?

- ☒ a. Segitiga sama kaki      b. Persegi panjang      c. Segitiga siku-siku

II. Jawablah pertanyaan di bawah ini dengan cara mengisi titik-titik dengan jawaban yang benar!

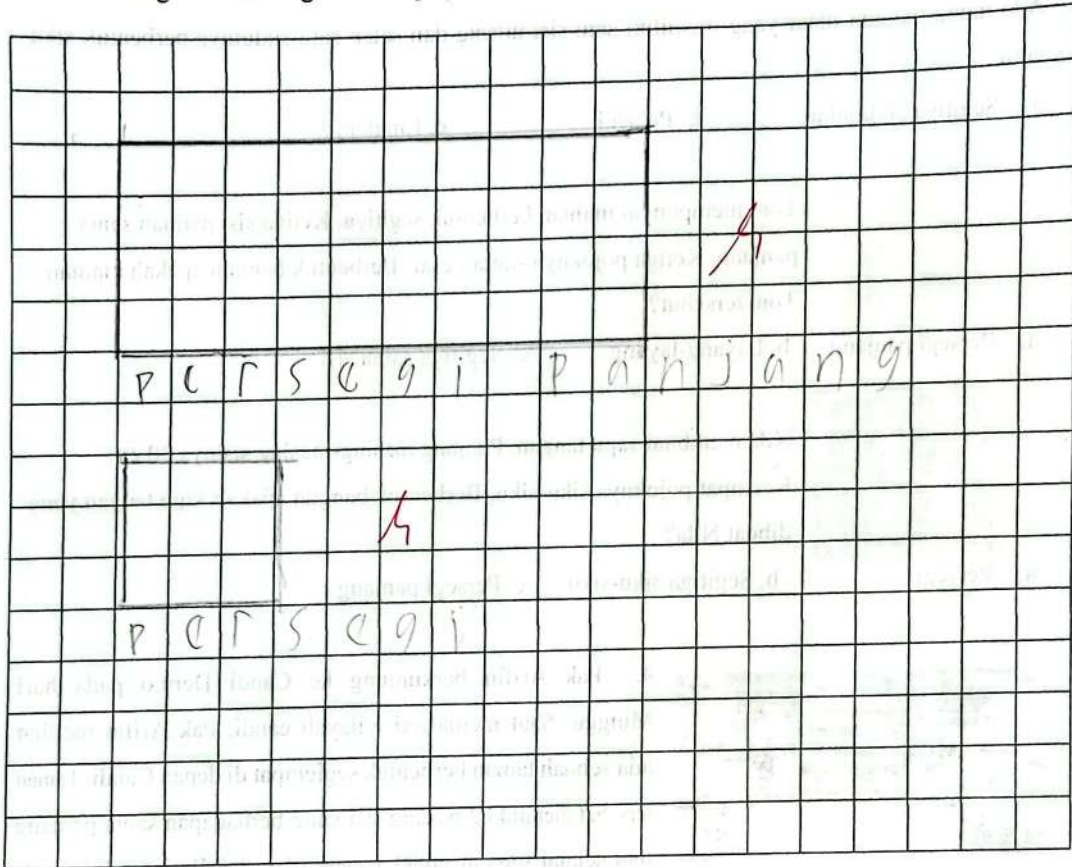


6. Arya dan Doni adalah pesilat hebat. Setiap berlatih silat, mereka selalu menggunakan seragam hitam, dan topi di kepala. Bentuk bangun datar yang ada pada topi Arya dan Doni adalah Segitiga

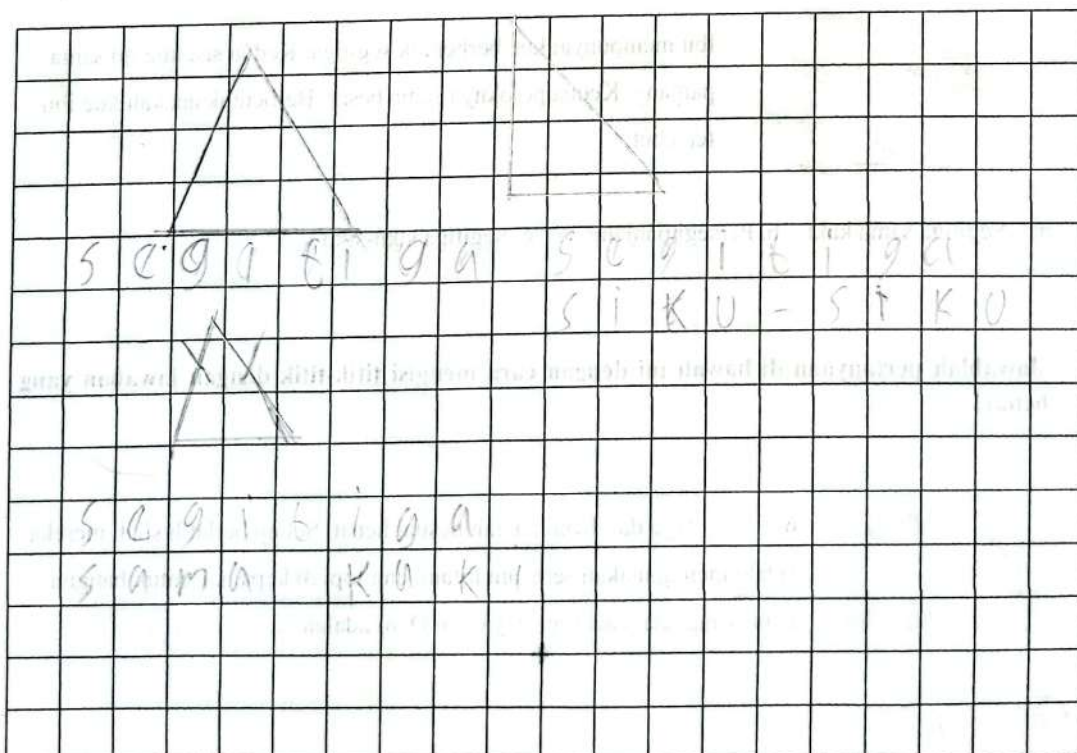


7. Gambar di samping adalah gambar anak tangga yang ada di Candi Dermo, bentuk bangun datar apa yang kamu temukan pada gambar anak tangga disamping? Persegi panjang 5

8. Gambarlah bangun persegi dan bangun persegi panjang yang ukurannya berbeda, kemudian berikan keterangan nama bangun datar apa yang sudah kamu buat!




9. Gambarlah tiga macam segitiga yang kamu ketahui, kemudian berikan keterangan nama bangun datar apa yang sudah kamu buat!



10. Perhatikan gambar di bawah ini!



Lemari



Jendela



Pintu



Penggaris segitiga



Hanger (gantungan baju)



Jam dinding



Plafon eternit atap



Buku



Meja

Kumpulkan benda-benda di atas sesuai dengan sifat yang dimilikinya!

a. Nama benda yang memiliki 4 sisi yang sama panjang dan memiliki 4 sudut siku-siku

17

plafon, jam dinding

b. Nama benda yang mempunyai 3 sisi dan 3 titik sudut.

17

penggaris segitiga, hanger

c. Nama benda yang memiliki 2 pasang sisi yang berhadapan sama panjang dan sejajar

17

lemari, jendela, pintu, buku, meja

## POSTEST

Nama : Kalea

Kelas : 3

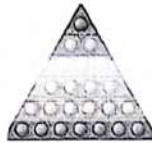
96

**I. Jawablah pertanyaan di bawah ini dengan cara memberikan tanda silang pada salah satu jawaban benar!**

1. Apa nama bangun datar yang memiliki satu sisi miring dan salah satu sudutnya berbentuk siku-siku?

- a. ☒ Segitiga siku-siku      ☒ Persegi      c. Lingkaran

2.



Toni mempunyai mainan berbentuk segitiga. Ketiga sisi mainan sama panjang. Ketiga pojoknya sama besar. Berbentuk bangun apakah mainan Toni tersebut?


- a. Persegi panjang      b. Layang-layang      ☒ Segitiga sama sisi

3.



Nila membuat sapu tangan. Panjang masing-masing sisinya 20 cm. Keempat pojoknya siku-siku. Berbentuk bangun apakah sapu tangan yang dibuat Nila?

- ☒ Persegi      b. Segitiga siku-siku      c. Persegi panjang



4. Pak Arifin berkunjung ke Candi Dermo pada hari Minggu. Saat memasuki wilayah candi, Pak Arifin melihat ada sebuah taman berbentuk segiempat di depan Candi. Taman tersebut memiliki 2 pasang sisi yang berhadapan sama panjang dan sejajar serta memiliki 4 sudut siku-siku. Berbentuk bangun apakah taman yang dilihat Pak Arifin?

- ☒ Persegi panjang      b. Lingkaran      c. Jajar genjang

5.




Ibu mempunyai kue berbentuk segitiga. Kedua sisi kue itu sama panjang. Kedua pojoknya sama besar. Berbentuk apakah kue ibu tersebut?

- ☒ Segitiga sama kaki      b. Persegi panjang      c. Segitiga siku-siku

**II. Jawablah pertanyaan di bawah ini dengan cara mengisi titik-titik dengan jawaban yang benar!**



6. Arya dan Doni adalah pesilat hebat. Setiap berlatih silat, mereka selalu menggunakan seragam hitam, dan topi di kepala. Bentuk bangun datar yang ada pada topi Arya dan Doni adalah. Segitiga 5

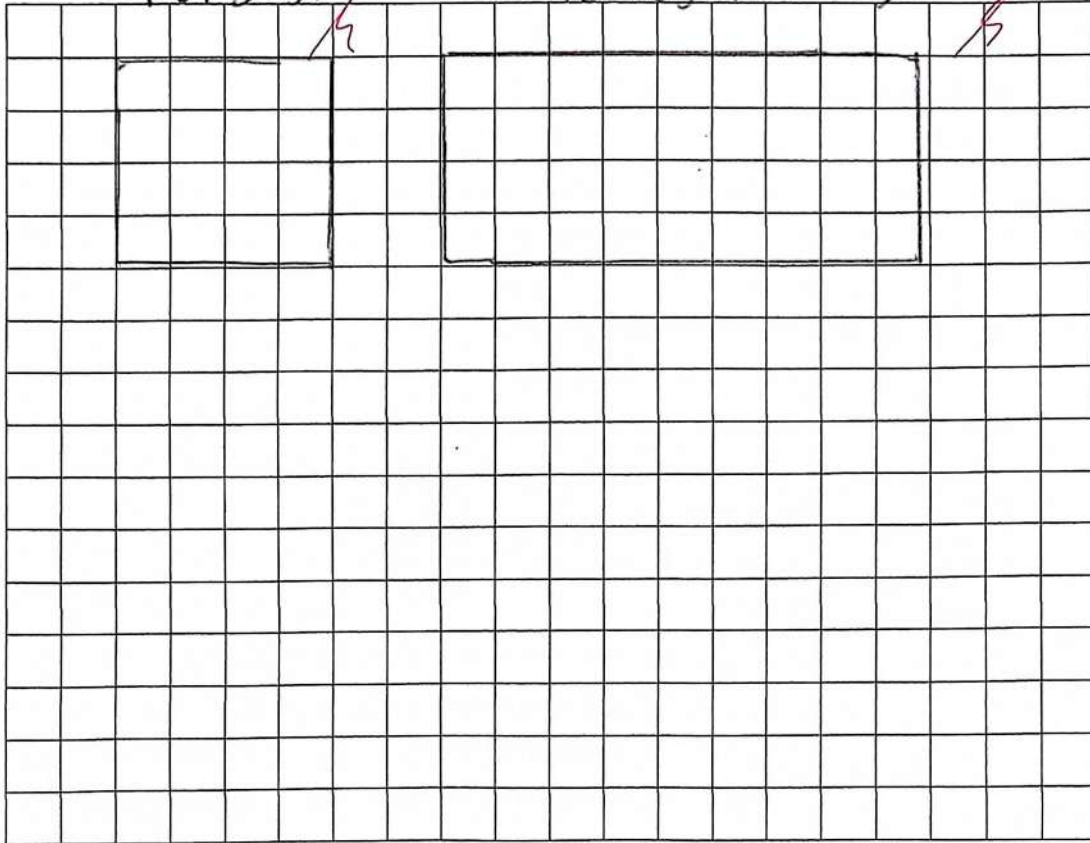


7. Gambar di samping adalah gambar anak tangga yang ada di Candi Dermo, bentuk bangun datar apa yang kamu temukan pada gambar anak tangga disamping? .Persegi...Panjang

8. Gambarlah bangun persegi dan bangun persegi panjang yang ukurannya berbeda, kemudian berikan keterangan nama bangun datar apa yang sudah kamu buat!

persegi

Persegi Panjang

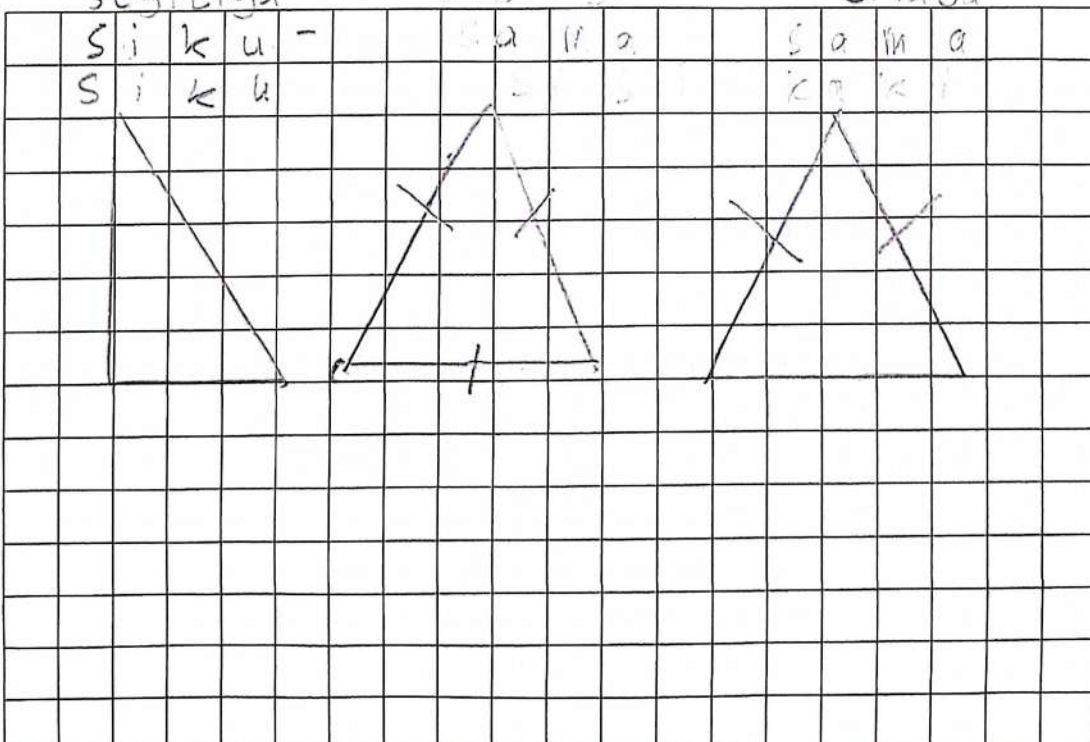


9. Gambarlah tiga macam segitiga yang kamu ketahui, kemudian berikan keterangan nama bangun datar apa yang sudah kamu buat!

segitiga

segitiga


segitiga



10. Perhatikan gambar di bawah ini!




Lemari




Jendela



Pintu



Penggaris segitiga



Hanger (gantungan baju)



Jam dinding



Plafon eternit atap



Buku



Meja

Kumpulkan benda-benda di atas sesuai dengan sifat yang dimilikinya!

- a. Nama benda yang memiliki 4 sisi yang sama panjang dan memiliki 4 sudut siku-siku

Plafon eternit atap, jam dinding, jendela

17

- b. Nama benda yang mempunyai 3 sisi dan 3 titik sudut.

Penggaris segitiga, hanger

17

- c. Nama benda yang memiliki 2 pasang sisi yang berhadapan sama panjang dan sejajar

Pintu, lemari, buku, meja

14

## POSTEST

91,5


Nama : Bima Aditya P.P

Kelas : III


I. Jawablah pertanyaan di bawah ini dengan cara memberikan tanda silang pada salah satu jawaban benar!

1. Apa nama bangun datar yang memiliki satu sisi miring dan salah satu sudutnya berbentuk siku-siku?

☒ a. Segitiga siku-siku      b. Persegi      c. Lingkaran

2.  Toni mempunyai mainan berbentuk segitiga. Ketiga sisi mainan sama panjang. Ketiga pojoknya sama besar. Berbentuk bangun apakah mainan Toni tersebut?

a. Persegi panjang      b. Layang-layang      ☒ c. Segitiga sama sisi


3.  Nila membuat sapu tangan. Panjang masing-masing sisinya 20 cm. Keempat pojoknya siku-siku. Berbentuk bangun apakah sapu tangan yang dibuat Nila?

☒ a. Persegi      b. Segitiga siku-siku      c. Persegi panjang



4. Pak Arifin berkunjung ke Candi Dermo pada hari Minggu. Saat memasuki wilayah candi, Pak Arifin melihat ada sebuah taman berbentuk segiempat di depan Candi. Taman tersebut memiliki 2 pasang sisi yang berhadapan sama panjang dan sejajar serta memiliki 4 sudut siku-siku. Berbentuk bangun apakah taman yang dilihat Pak Arifin?

☒ a. Persegi panjang      b. Lingkaran      c. Jajar genjang

5.  Ibu mempunyai kue berbentuk segitiga. Kedua sisi kue itu sama panjang. Kedua pojoknya sama besar. Berbentuk apakah kue ibu tersebut?

☒ a. Segitiga sama kaki      b. Persegi panjang      ☒ c. Segitiga siku-siku

II. Jawablah pertanyaan di bawah ini dengan cara mengisi titik-titik dengan jawaban yang benar!

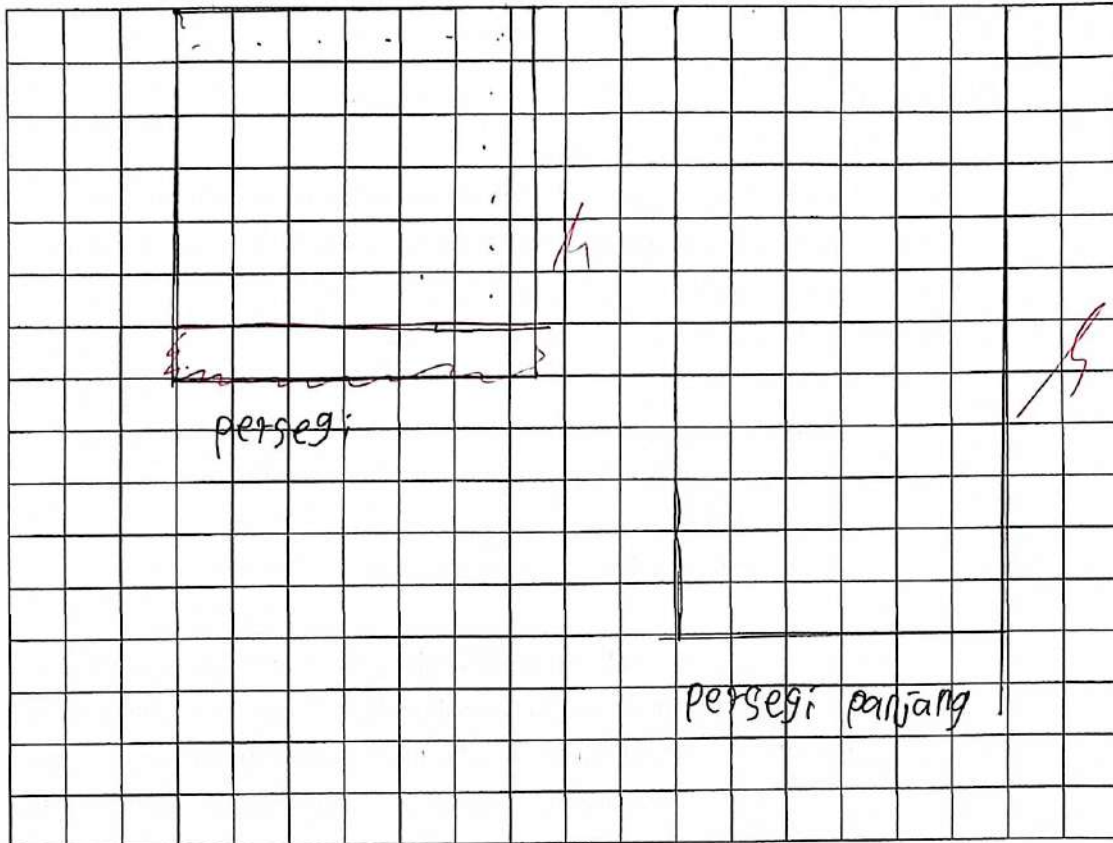


6. Arya dan Doni adalah pesilat hebat. Setiap berlatih silat, mereka selalu menggunakan seragam hitam, dan topi di kepala. Bentuk bangun datar yang ada pada topi Arya dan Doni adalah. Segitiga 5

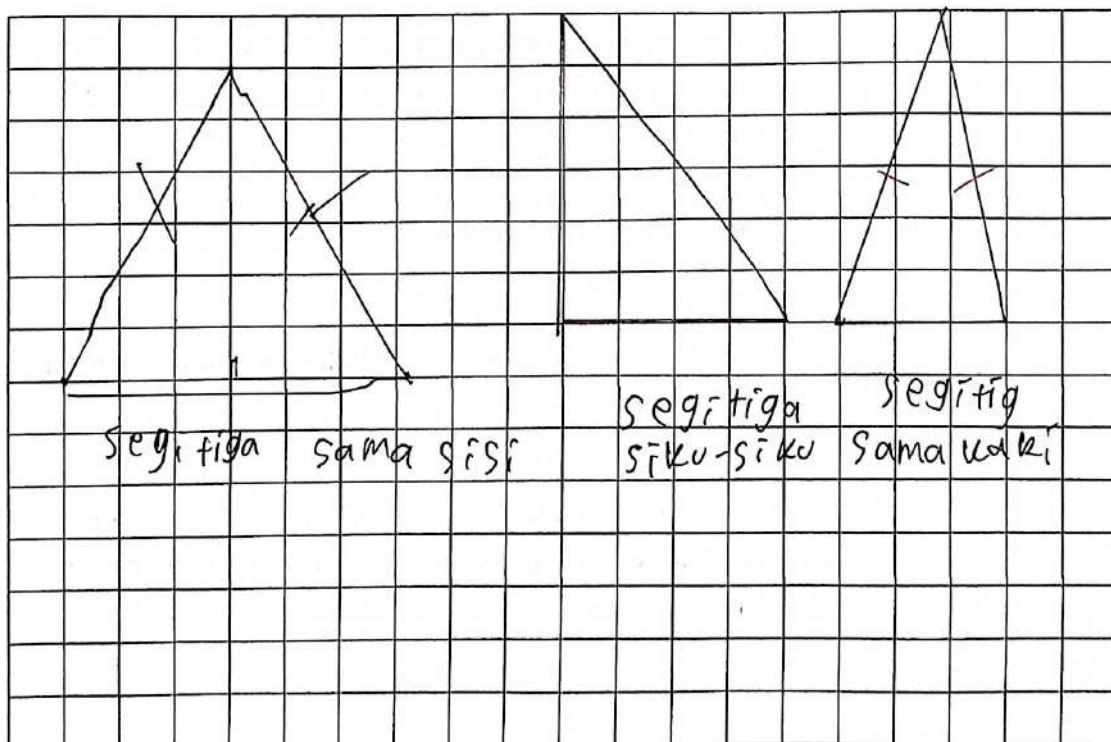


7. Gambar di samping adalah gambar anak tangga yang ada di Candi Dermo, bentuk bangun datar apa yang kamu temukan pada gambar anak tangga disamping? *persegi panjang*

8. Gambarlah bangun persegi dan bangun persegi panjang yang ukurannya berbeda, kemudian berikan keterangan nama bangun datar apa yang sudah kamu buat!



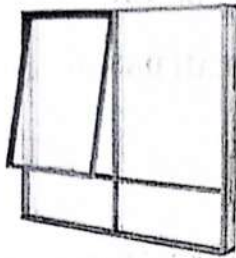
9. Gambarlah tiga macam segitiga yang kamu ketahui, kemudian berikan keterangan nama bangun datar apa yang sudah kamu buat!



10. Perhatikan gambar di bawah ini!



Lemari



Jendela



Pintu



Penggaris segitiga



Hanger (gantungan baju)



Jam dinding



Plafon eternit atap



Buku



Meja

Kumpulkan benda-benda di atas sesuai dengan sifat yang dimilikinya!

- a. Nama benda yang memiliki 4 sisi yang sama panjang dan memiliki 4 sudut siku-siku

~~lemari, jam dinding, buku, meja, pintu, jendela~~

815

- b. Nama benda yang mempunyai 3 sisi dan 3 titik sudut.

penggaris dan Hanger

17

- c. Nama benda yang memiliki 2 pasang sisi yang berhadapan sama panjang dan sejajar

lemari, jendela, pintu, buku, dan lemari

17

## POSTEST

Nama : Rizky HARIZ DAR MAWAN  
Kelas : 3 + 191d

78

**I. Jawablah pertanyaan di bawah ini dengan cara memberikan tanda silang pada salah satu jawaban benar!**

1. Apa nama bangun datar yang memiliki satu sisi miring dan salah satu sudutnya berbentuk siku-siku?

☒ a. Segitiga siku-siku      b. Persegi      c. Lingkaran

2.



Toni mempunyai mainan berbentuk segitiga. Ketiga sisi mainan sama panjang. Ketiga pojoknya sama besar. Berbentuk bangun apakah mainan Toni tersebut?


a. Persegi panjang      b. Layang-layang      ☒ c. Segitiga sama sisi

3.



Nila membuat sapu tangan. Panjang masing-masing sisinya 20 cm. Keempat pojoknya siku-siku. Berbentuk bangun apakah sapu tangan yang dibuat Nila?


☒ a. Persegi      b. Segitiga siku-siku      c. Persegi panjang



4. Pak Arifin berkunjung ke Candi Dermo pada hari Minggu. Saat memasuki wilayah candi, Pak Arifin melihat ada sebuah taman berbentuk segiempat di depan Candi. Taman tersebut memiliki 2 pasang sisi yang berhadapan sama panjang dan sejajar serta memiliki 4 sudut siku-siku. Berbentuk bangun apakah taman yang dilihat Pak Arifin?

☒ a. Persegi panjang      b. Lingkaran      c. Jajar genjang

5.



Ibu mempunyai kue berbentuk segitiga. Kedua sisi kue itu sama panjang. Kedua pojoknya sama besar. Berbentuk apakah kue ibu tersebut?


☒ a. Segitiga sama kaki      b. Persegi panjang      c. Segitiga siku-siku

**II. Jawablah pertanyaan di bawah ini dengan cara mengisi titik-titik dengan jawaban yang benar!**



6. Arya dan Doni adalah pesilat hebat. Setiap berlatih silat, mereka selalu menggunakan seragam hitam, dan topi di kepala. Bentuk bangun datar yang ada pada topi Arya dan Doni adalah... Segitiga


5



7. Gambar di samping adalah gambar anak tangga yang ada di Candi Dermo, bentuk bangun datar apa yang kamu temukan pada gambar anak tangga disamping? *Persegi panjang* 5

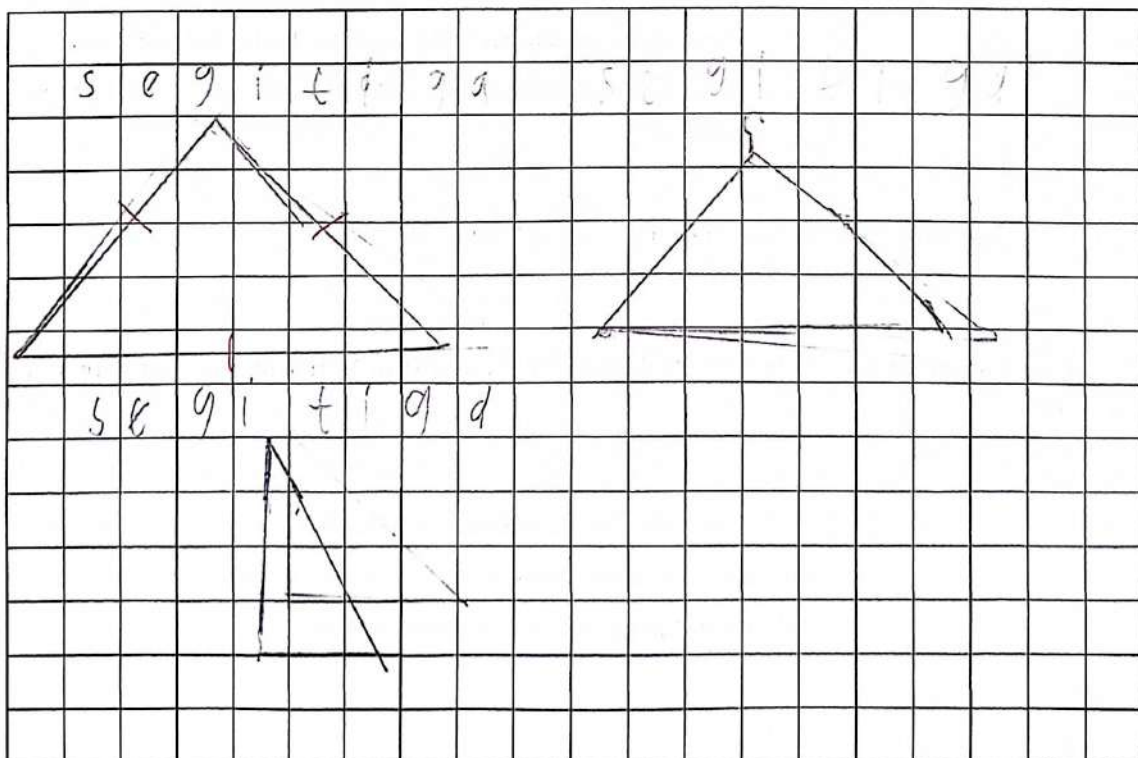
8. Gambarlah bangun persegi dan bangun persegi panjang yang ukurannya berbeda, kemudian berikan keterangan nama bangun datar apa yang sudah kamu buat!

17



9. Gambarlah tiga macam segitiga yang kamu ketahui, kemudian berikan keterangan nama bangun datar apa yang sudah kamu buat!

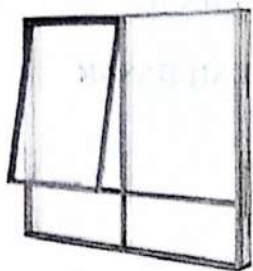
10



10. Perhatikan gambar di bawah ini!




Lemari



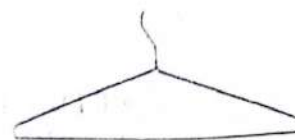
Jendela



Pintu



Penggaris segitiga



Hanger (gantungan baju)



Jam dinding



Plafon eternit atap



Buku



Meja

Kumpulkan benda-benda di atas sesuai dengan sifat yang dimilikinya!

- a. Nama benda yang memiliki 4 sisi yang sama panjang dan memiliki 4 sudut siku-siku

Meja, Lemari, Jam dinding

8,5

- b. Nama benda yang mempunyai 3 sisi dan 3 titik sudut.

Penggaris segitiga

17

- c. Nama benda yang memiliki 2 pasang sisi yang berhadapan sama panjang dan sejajar

Buku, Pintu, Jendela

10,5

## POSTEST

Nama : Sandevyn Alifando Segg...  
Kelas : 3

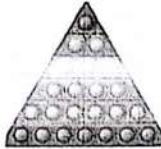
24,5

I. Jawablah pertanyaan di bawah ini dengan cara memberikan tanda silang pada salah satu jawaban benar!

1. Apa nama bangun datar yang memiliki satu sisi miring dan salah satu sudutnya berbentuk siku-siku?

☒ a. Segitiga siku-siku      b. Persegi      c. Lingkaran

2.



Toni mempunyai mainan berbentuk segitiga. Ketiga sisi mainan sama panjang. Ketiga pojoknya sama besar. Berbentuk bangun apakah mainan Toni tersebut?


a. Persegi panjang      b. Layang-layang      ☒ c. Segitiga sama sisi

3.



Nila membuat sapu tangan. Panjang masing-masing sisinya 20 cm. Keempat pojoknya siku-siku. Berbentuk bangun apakah sapu tangan yang dibuat Nila?

☒ a. Persegi      b. Segitiga siku-siku      c. Persegi panjang



4. Pak Arifin berkunjung ke Candi Dermo pada hari Minggu. Saat memasuki wilayah candi, Pak Arifin melihat ada sebuah taman berbentuk segiempat di depan Candi. Taman tersebut memiliki 2 pasang sisi yang berhadapan sama panjang dan sejajar serta memiliki 4 sudut siku-siku. Berbentuk bangun apakah taman yang dilihat Pak Arifin?

☒ a. Persegi panjang      b. Lingkaran      c. Jajar genjang

5.




Ibu mempunyai kue berbentuk segitiga. Kedua sisi kue itu sama panjang. Kedua pojoknya sama besar. Berbentuk apakah kue ibu tersebut?

☒ a. Segitiga sama kaki      b. Persegi panjang      c. Segitiga siku-siku

II. Jawablah pertanyaan di bawah ini dengan cara mengisi titik-titik dengan jawaban yang benar!




6. Arya dan Doni adalah pesilat hebat. Setiap berlatih silat, mereka selalu menggunakan seragam hitam, dan topi di kepala. Bentuk bangun datar yang ada pada topi Arya dan Doni adalah... Segitiga.. 5

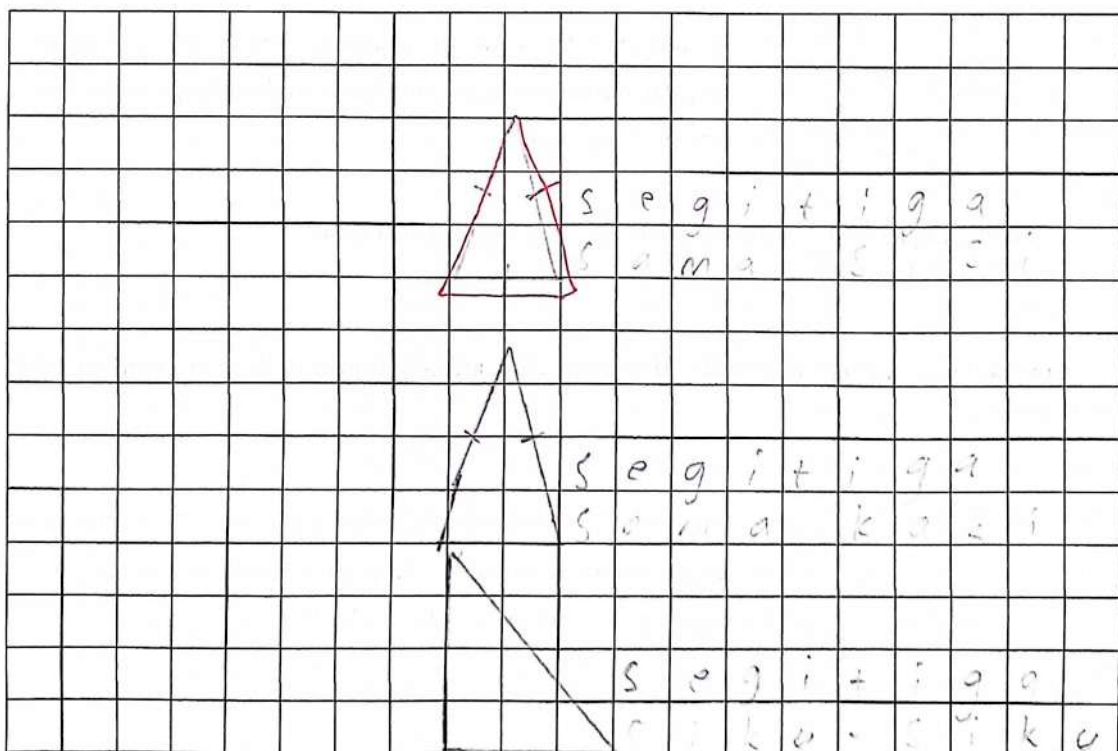


7. Gambar di samping adalah gambar anak tangga yang ada di Candi Dermo, bentuk bangun datar apa yang kamu temukan pada gambar anak tangga disamping? *persegi... panjang 5*

8. Gambarlah bangun persegi dan bangun persegi panjang yang ukurannya berbeda, kemudian berikan keterangan nama bangun datar apa yang sudah kamu buat!



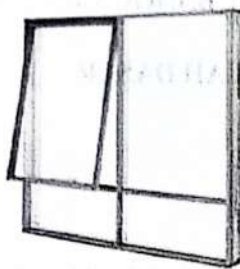
9. Gambarlah tiga macam segitiga yang kamu ketahui, kemudian berikan keterangan nama bangun datar apa yang sudah kamu buat!



10. Perhatikan gambar di bawah ini!




Lemari



Jendela



Pintu



Penggaris segitiga



Hanger (gantungan baju)



Jam dinding



Plafon eternit atap



Buku



Meja

Kumpulkan benda-benda di atas sesuai dengan sifat yang dimilikinya!

a. Nama benda yang memiliki 4 sisi yang sama panjang dan memiliki 4 sudut siku-siku

jam dinding, pintu, lemari

815

b. Nama benda yang mempunyai 3 sisi dan 3 titik sudut.

penggaris segitiga

17

c. Nama benda yang memiliki 2 pasang sisi yang berhadapan sama panjang dan sejajar

plafon eternit, meja

## POSTEST

Nama : A x c f l

Kelas : 3 III

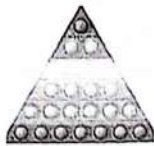
91,5

**I. Jawablah pertanyaan di bawah ini dengan cara memberikan tanda silang pada salah satu jawaban benar!**

1. Apa nama bangun datar yang memiliki satu sisi miring dan salah satu sudutnya berbentuk siku-siku?

☒ a. Segitiga siku-siku      b. Persegi      c. Lingkaran

2.



Toni mempunyai mainan berbentuk segitiga. Ketiga sisi mainan sama panjang. Ketiga pojoknya sama besar. Berbentuk bangun apakah mainan Toni tersebut?


a. Persegi panjang      b. Layang-layang      ☒ c. Segitiga sama sisi

3.



Nila membuat sapu tangan. Panjang masing-masing sisinya 20 cm. Keempat pojoknya siku-siku. Berbentuk bangun apakah sapu tangan yang dibuat Nila?


☒ a. Persegi      b. Segitiga siku-siku      c. Persegi panjang



4. Pak Arifin berkunjung ke Candi Dermo pada hari Minggu. Saat memasuki wilayah candi, Pak Arifin melihat ada sebuah taman berbentuk segiempat di depan Candi. Taman tersebut memiliki 2 pasang sisi yang berhadapan sama panjang dan sejajar serta memiliki 4 sudut siku-siku. Berbentuk bangun apakah taman yang dilihat Pak Arifin?

☒ a. Persegi panjang      b. Lingkaran      c. Jajar genjang

5.



Ibu mempunyai kue berbentuk segitiga. Kedua sisi kue itu sama panjang. Kedua pojoknya sama besar. Berbentuk apakah kue ibu tersebut?


☒ a. Segitiga sama kaki      b. Persegi panjang      c. Segitiga siku-siku

**II. Jawablah pertanyaan di bawah ini dengan cara mengisi titik-titik dengan jawaban yang benar!**



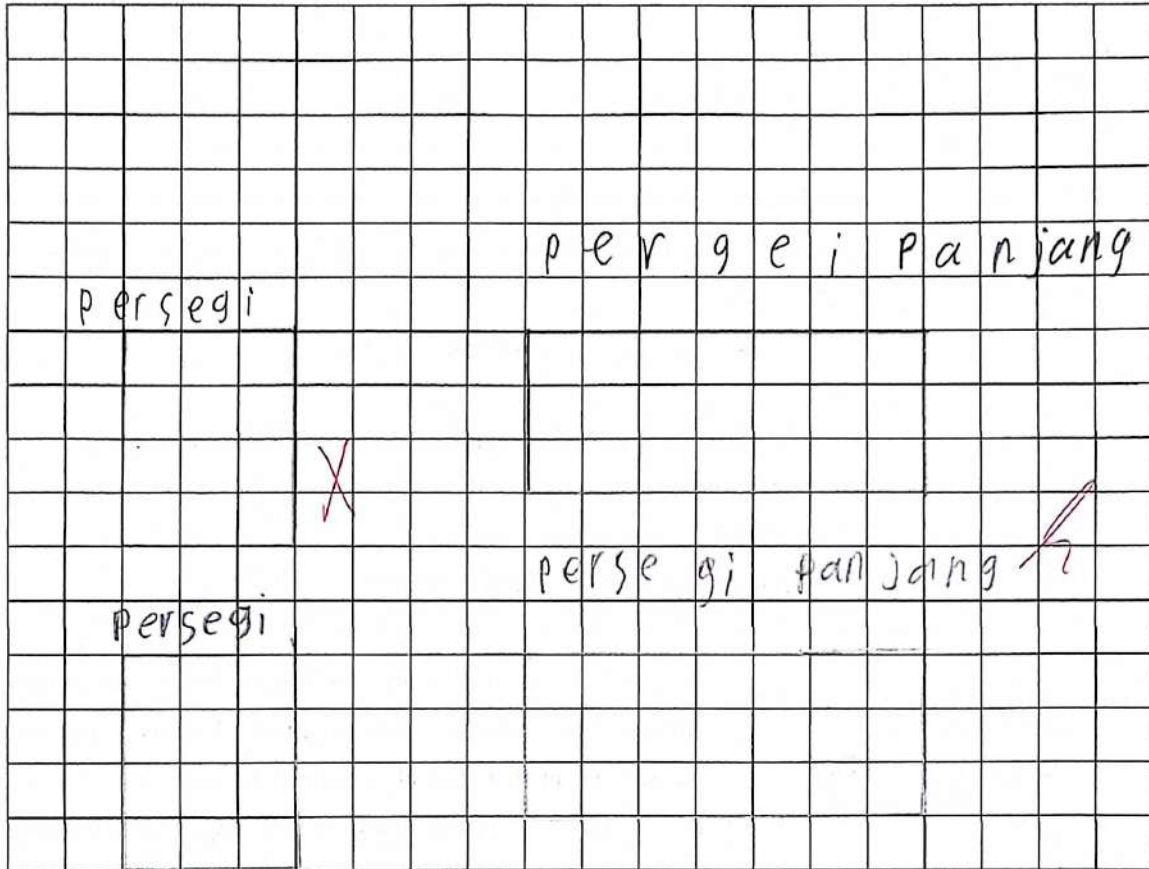
6. Arya dan Doni adalah pesilat hebat. Setiap berlatih silat, mereka selalu menggunakan seragam hitam, dan topi di kepala. Bentuk bangun datar yang ada pada topi Arya dan Doni adalah Segitiga.

5




7. Gambar di samping adalah gambar anak tangga yang ada di Candi Dermo, bentuk bangun datar apa yang kamu temukan pada gambar anak tangga disamping? *persegi... panjang 5*

8. Gambarlah bangun persegi dan bangun persegi panjang yang ukurannya berbeda, kemudian berikan keterangan nama bangun datar apa yang sudah kamu buat!



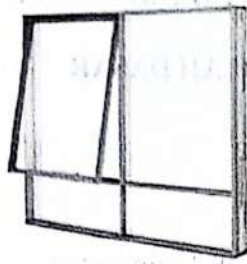
9. Gambarlah tiga macam segitiga yang kamu ketahui, kemudian berikan keterangan nama bangun datar apa yang sudah kamu buat!



10. Perhatikan gambar di bawah ini!



Lemari




Jendela



Pintu



Penggaris segitiga



Hanger (gantungan baju)



Jam dinding



Plafon eternit atap



Buku



Meja

Kumpulkan benda-benda di atas sesuai dengan sifat yang dimilikinya!

- a. Nama benda yang memiliki 4 sisi yang sama panjang dan memiliki 4 sudut siku-siku

jam dinding, Plafon

17

- b. Nama benda yang mempunyai 3 sisi dan 3 titik sudut.

Penggaris segitiga, Hanger (gantungan baju)

17

- c. Nama benda yang memiliki 2 pasang sisi yang berhadapan sama panjang dan sejajar

lemari, jendela, Pintu, ~~Plafon~~, Buku, Meja

17

## POSTEST

Nama : Livia Maulidah Fadila  
Kelas : 3/1/1




### I. Jawablah pertanyaan di bawah ini dengan cara memberikan tanda silang pada salah satu jawaban benar!

1. Apa nama bangun datar yang memiliki satu sisi miring dan salah satu sudutnya berbentuk siku-siku?

☒ a. Segitiga siku-siku      b. Persegi      c. Lingkaran

2.



Toni mempunyai mainan berbentuk segitiga. Ketiga sisi mainan sama panjang. Ketiga pojoknya sama besar. Berbentuk bangun apakah mainan Toni tersebut?


☐ a. Persegi panjang      b. Layang-layang      ☒ c. Segitiga sama sisi

3.



Nila membuat sapu tangan. Panjang masing-masing sisinya 20 cm. Keempat pojoknya siku-siku. Berbentuk bangun apakah sapu tangan yang dibuat Nila?

☒ a. Persegi      b. Segitiga siku-siku      c. Persegi panjang



4. Pak Arifin berkunjung ke Candi Dermo pada hari Minggu. Saat memasuki wilayah candi, Pak Arifin melihat ada sebuah taman berbentuk segiempat di depan Candi. Taman tersebut memiliki 2 pasang sisi yang berhadapan sama panjang dan sejajar serta memiliki 4 sudut siku-siku. Berbentuk bangun apakah taman yang dilihat Pak Arifin?

☒ a. Persegi panjang      b. Lingkaran      c. Jajar genjang

5.




Ibu mempunyai kue berbentuk segitiga. Kedua sisi kue itu sama panjang. Kedua pojoknya sama besar. Berbentuk apakah kue ibu tersebut?

☒ a. Segitiga sama kaki      b. Persegi panjang      c. Segitiga siku-siku

### II. Jawablah pertanyaan di bawah ini dengan cara mengisi titik-titik dengan jawaban yang benar!



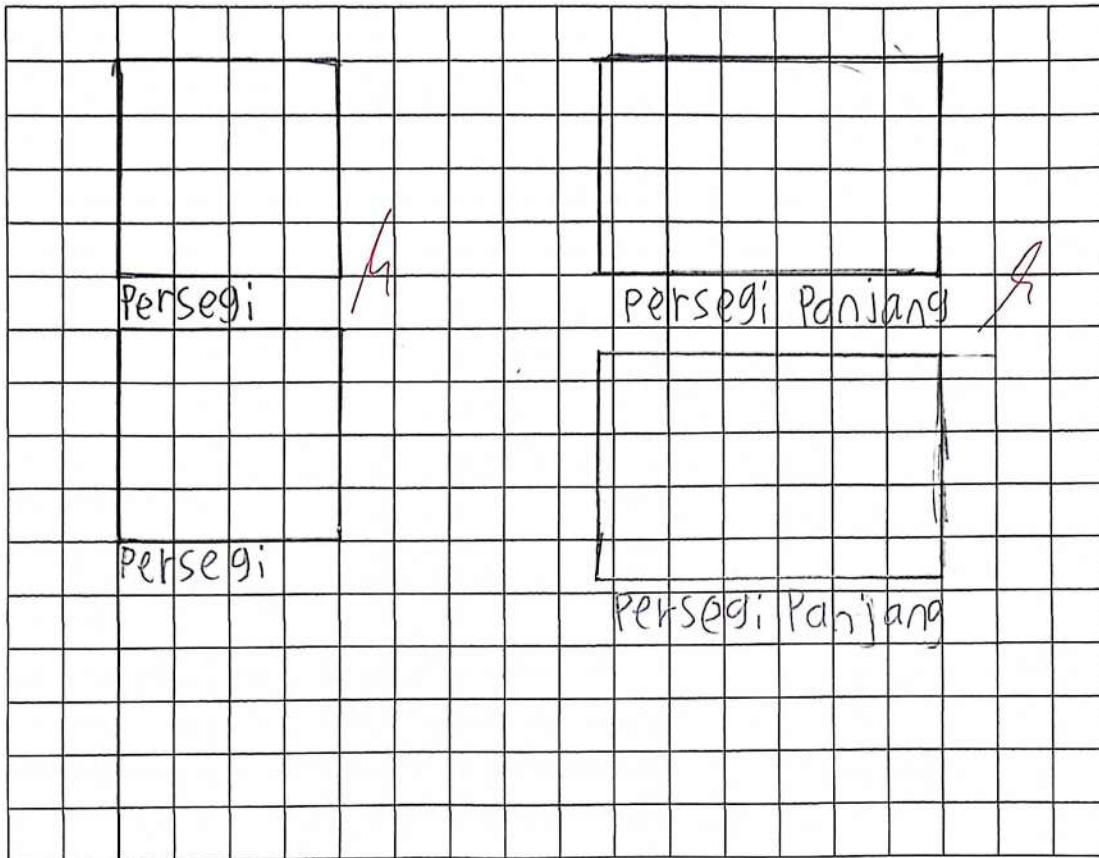
6. Arya dan Doni adalah pesilat hebat. Setiap berlatih silat, mereka selalu menggunakan seragam hitam, dan topi di kepala. Bentuk bangun datar yang ada pada topi Arya dan Doni adalah segitiga 5



7. Gambar di samping adalah gambar anak tangga yang ada di Candi Dermo, bentuk bangun datar apa yang kamu temukan pada gambar anak tangga disamping? *Persegi panjang 5*

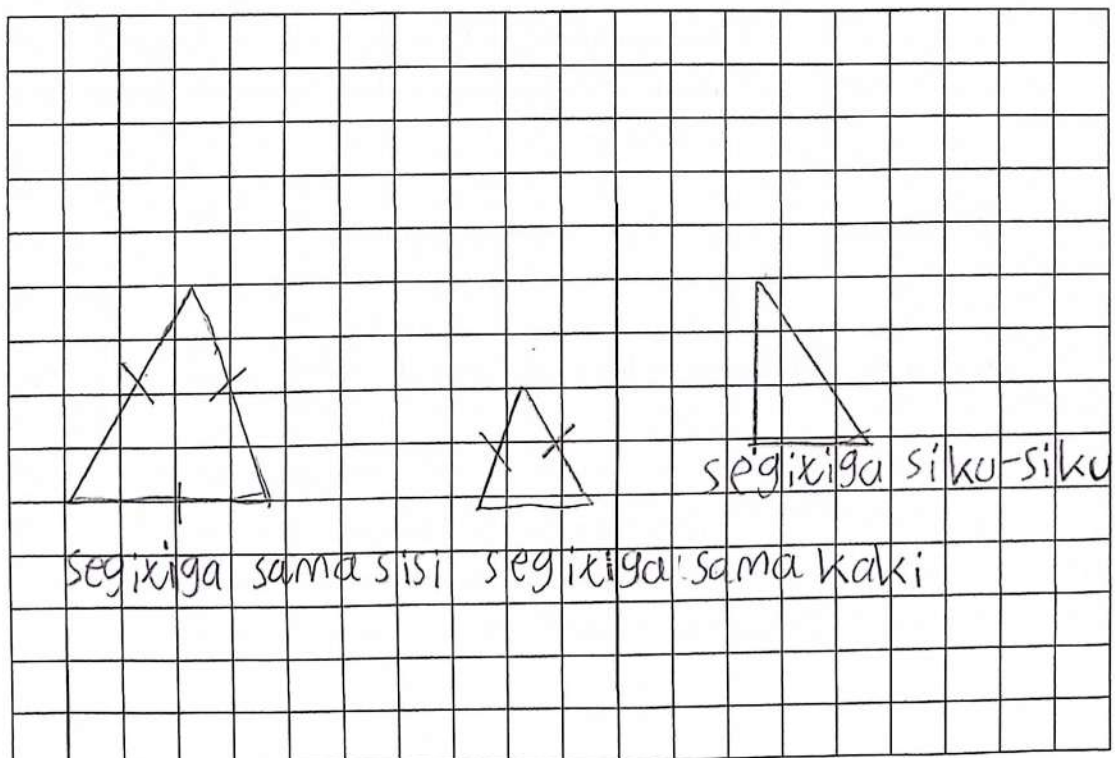
8. Gambarlah bangun persegi dan bangun persegi panjang yang ukurannya berbeda, kemudian berikan keterangan nama bangun datar apa yang sudah kamu buat!

17



9. Gambarlah tiga macam segitiga yang kamu ketahui, kemudian berikan keterangan nama bangun datar apa yang sudah kamu buat!

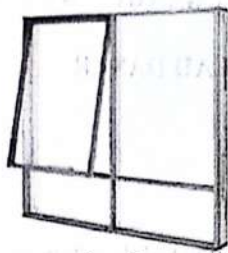
17



10. Perhatikan gambar di bawah ini!



Lemari



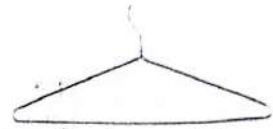
Jendela



Pintu



Penggaris segitiga



Hanger (gantungan baju)



Jam dinding



Plafon eternit atap



Buku



Meja

Kumpulkan benda-benda di atas sesuai dengan sifat yang dimilikinya!

- a. Nama benda yang memiliki 4 sisi yang sama panjang dan memiliki 4 sudut siku-siku

Jam dinding, Plafon

17

- b. Nama benda yang mempunyai 3 sisi dan 3 titik sudut.

Penggaris segitiga, gantungan baju

17

- c. Nama benda yang memiliki 2 pasang sisi yang berhadapan sama panjang dan sejajar

Lemari, Jendela, Pintu, Meja

17

## POSTEST

Nama : Farel

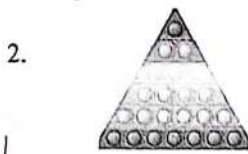
Kelas : 11

91,5

**I. Jawablah pertanyaan di bawah ini dengan cara memberikan tanda silang pada salah satu jawaban benar!**

1. Apa nama bangun datar yang memiliki satu sisi miring dan salah satu sudutnya berbentuk siku-siku?

☒ a. Segitiga siku-siku      b. Persegi      c. Lingkaran




Toni mempunyai mainan berbentuk segitiga. Ketiga sisi mainan sama panjang. Ketiga pojoknya sama besar. Berbentuk bangun apakah mainan Toni tersebut?

a. Persegi panjang      b. Layang-layang      ☒ c. Segitiga sama sisi



Nila membuat sapu tangan. Panjang masing-masing sisinya 20 cm. Keempat pojoknya siku-siku. Berbentuk bangun apakah sapu tangan yang dibuat Nila?

☒ a. Persegi      b. Segitiga siku-siku      c. Persegi panjang



Pak Arifin berkunjung ke Candi Dermo pada hari Minggu. Saat memasuki wilayah candi, Pak Arifin melihat ada sebuah taman berbentuk segiempat di depan Candi. Taman tersebut memiliki 2 pasang sisi yang berhadapan sama panjang dan sejajar serta memiliki 4 sudut siku-siku. Berbentuk bangun apakah taman yang dilihat Pak Arifin?

☒ a. Persegi panjang      b. Lingkaran      c. Jajar genjang




Ibu mempunyai kue berbentuk segitiga. Kedua sisi kue itu sama panjang. Kedua pojoknya sama besar. Berbentuk apakah kue ibu tersebut?

☒ a. Segitiga sama kaki      b. Persegi panjang      c. Segitiga siku-siku

**II. Jawablah pertanyaan di bawah ini dengan cara mengisi titik-titik dengan jawaban yang benar!**




6. Arya dan Doni adalah pesilat hebat. Setiap berlatih silat, mereka selalu menggunakan seragam hitam, dan topi di kepala. Bentuk bangun datar yang ada pada topi Arya dan Doni adalah Segitiga... 5

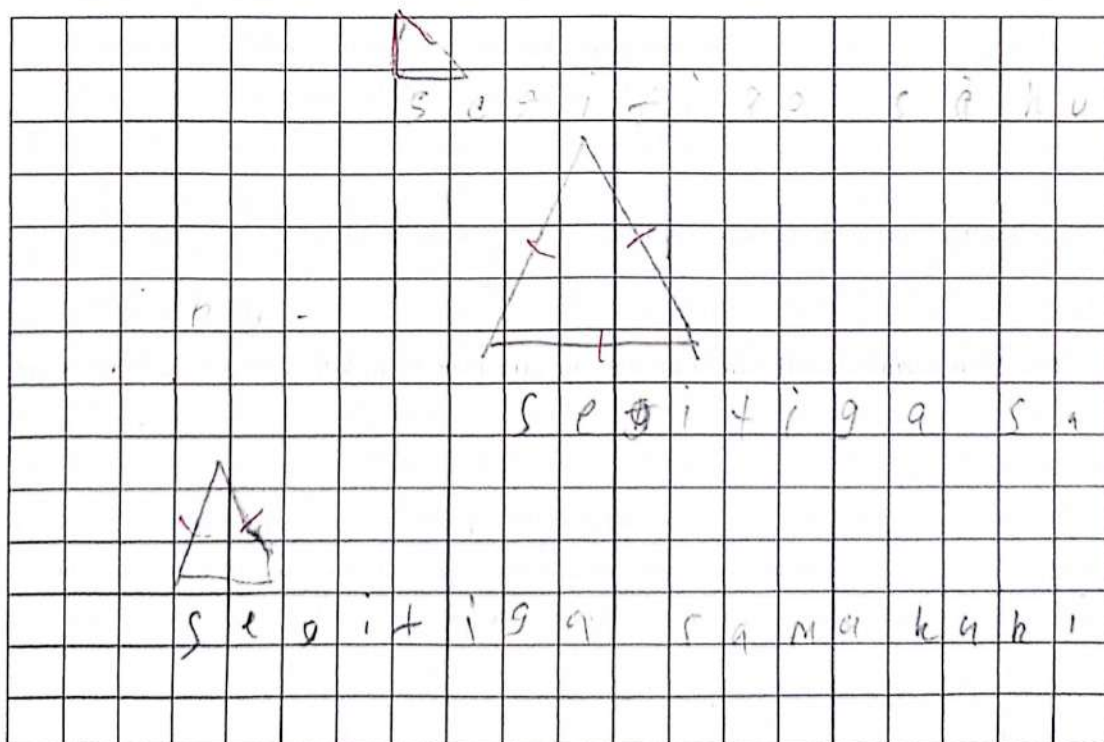


7. Gambar di samping adalah gambar anak tangga yang ada di Candi Dermo, bentuk bangun datar apa yang kamu temukan pada gambar anak tangga disamping? *Persegi.... Panjang 5*

8. Gambarlah bangun persegi dan bangun persegi panjang yang ukurannya berbeda, kemudian berikan keterangan nama bangun datar apa yang sudah kamu buat!




9. Gambarlah tiga macam segitiga yang kamu ketahui, kemudian berikan keterangan nama bangun datar apa yang sudah kamu buat!



10. Perhatikan gambar di bawah ini!




Lemari



Jendela



Pintu



Penggaris segitiga



Hanger (gantungan baju)



Jam dinding



Plafon eternit atap



Buku



Meja

Kumpulkan benda-benda di atas sesuai dengan sifat yang dimilikinya!

- a. Nama benda yang memiliki 4 sisi yang sama panjang dan memiliki 4 sudut siku-siku

Plafon eternit atap, ~~Penggaris~~.....

8.5

- b. Nama benda yang mempunyai 3 sisi dan 3 titik sudut.

Penggaris segitiga, hanger, gantungan baju

17

- c. Nama benda yang memiliki 2 pasang sisi yang berhadapan sama panjang dan sejajar

Lemari, meja, buku, ~~jam dinding~~.....

17

## POSTEST

Nama : Muhammad Luthfi

Kelas : 3

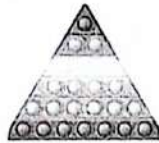
91,5

### I. Jawablah pertanyaan di bawah ini dengan cara memberikan tanda silang pada salah satu jawaban benar!

1. Apa nama bangun datar yang memiliki satu sisi miring dan salah satu sudutnya berbentuk siku-siku?

☒ a. Segitiga siku-siku      b. Persegi      c. Lingkaran

2.



Toni mempunyai mainan berbentuk segitiga. Ketiga sisi mainan sama panjang. Ketiga pojoknya sama besar. Berbentuk bangun apakah mainan Toni tersebut?


a. Persegi panjang      b. Layang-layang      ☒ c. Segitiga sama sisi

3.



Nila membuat sapu tangan. Panjang masing-masing sisinya 20 cm. Keempat pojoknya siku-siku. Berbentuk bangun apakah sapu tangan yang dibuat Nila?


☒ a. Persegi      b. Segitiga siku-siku      c. Persegi panjang



4. Pak Arifin berkunjung ke Candi Dermo pada hari Minggu. Saat memasuki wilayah candi, Pak Arifin melihat ada sebuah taman berbentuk segiempat di depan Candi. Taman tersebut memiliki 2 pasang sisi yang berhadapan sama panjang dan sejajar serta memiliki 4 sudut siku-siku. Berbentuk bangun apakah taman yang dilihat Pak Arifin?

☒ a. Persegi panjang      b. Lingkaran      c. Jajar genjang

5.



Ibu mempunyai kue berbentuk segitiga. Kedua sisi kue itu sama panjang. Kedua pojoknya sama besar. Berbentuk apakah kue ibu tersebut?

☒ a. Segitiga sama kaki      b. Persegi panjang      c. Segitiga siku-siku

### II. Jawablah pertanyaan di bawah ini dengan cara mengisi titik-titik dengan jawaban yang benar!



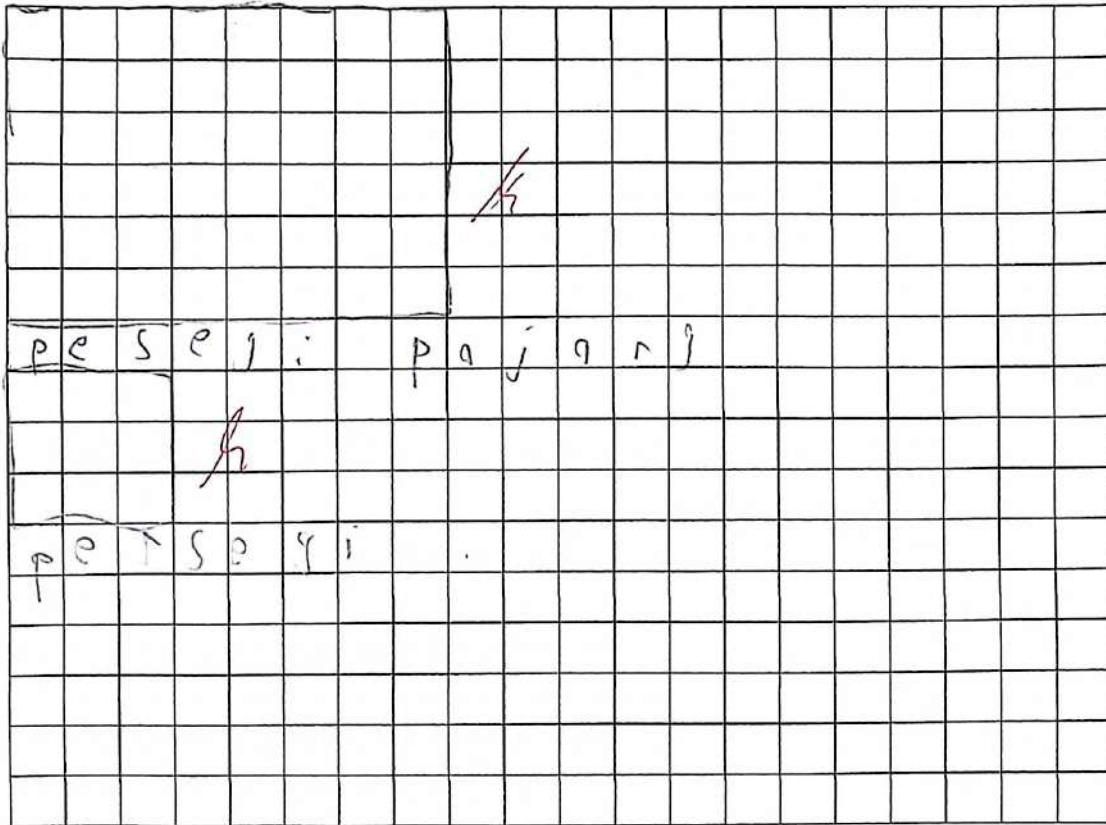
6. Arya dan Doni adalah pesilat hebat. Setiap berlatih silat, mereka selalu menggunakan seragam hitam, dan topi di kepala. Bentuk bangun datar yang ada pada topi Arya dan Doni adalah Segitiga



7. Gambar di samping adalah gambar anak tangga yang ada di Candi Dermo, bentuk bangun datar apa yang kamu temukan pada gambar anak tangga disamping? ..persegi panjang 5


8. Gambarlah bangun persegi dan bangun persegi panjang yang ukurannya berbeda, kemudian berikan keterangan nama bangun datar apa yang sudah kamu buat!

17



9. Gambarlah tiga macam segitiga yang kamu ketahui, kemudian berikan keterangan nama bangun datar apa yang sudah kamu buat!

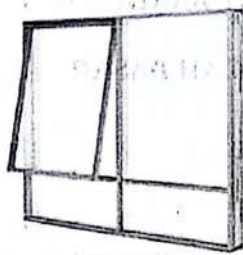
17



10. Perhatikan gambar di bawah ini!



Lemari




Jendela



Pintu



Penggaris segitiga



Hanger (gantungan baju)



Jam dinding



Plafon eternit atap



Buku



Meja

Kumpulkan benda-benda di atas sesuai dengan sifat yang dimilikinya!

- a. Nama benda yang memiliki 4 sisi yang sama panjang dan memiliki 4 sudut siku-siku

plafon eternit atap, persegi

8,5

- b. Nama benda yang mempunyai 3 sisi dan 3 titik sudut.

pintu, hanger, segitiga, gantungan baju

17

- c. Nama benda yang memiliki 2 pasang sisi yang berhadapan sama panjang dan sejajar

lemari, jendela, pintu, buku, meja

17

## POSTEST

Nama : ZAhwa.

Kelas : tiga.


79,5

I. Jawablah pertanyaan di bawah ini dengan cara memberikan tanda silang pada salah satu jawaban benar!

1. Apa nama bangun datar yang memiliki satu sisi miring dan salah satu sudutnya berbentuk siku-siku?

- ☒ a. Segitiga siku-siku      ☒ b. Persegi      c. Lingkaran

2.



Toni mempunyai mainan berbentuk segitiga. Ketiga sisi mainan sama panjang. Ketiga pojoknya sama besar. Berbentuk bangun apakah mainan Toni tersebut?


- a. Persegi panjang      b. Layang-layang      ☒ c. Segitiga sama sisi

3.



Nila membuat sapu tangan. Panjang masing-masing sisinya 20 cm. Keempat pojoknya siku-siku. Berbentuk bangun apakah sapu tangan yang dibuat Nila?


- ☒ a. Persegi      b. Segitiga siku-siku      ☒ c. Persegi panjang



4. Pak Arifin berkunjung ke Candi Dermo pada hari Minggu. Saat memasuki wilayah candi, Pak Arifin melihat ada sebuah taman berbentuk segiempat di depan Candi. Taman tersebut memiliki 2 pasang sisi yang berhadapan sama panjang dan sejajar serta memiliki 4 sudut siku-siku. Berbentuk bangun apakah taman yang dilihat Pak Arifin?

- ☒ a. Persegi panjang      b. Lingkaran      c. Jajar genjang

5.



Ibu mempunyai kue berbentuk segitiga. Kedua sisi kue itu sama panjang. Kedua pojoknya sama besar. Berbentuk apakah kue ibu tersebut?


- ☒ a. Segitiga sama kaki      b. Persegi panjang      c. Segitiga siku-siku

II. Jawablah pertanyaan di bawah ini dengan cara mengisi titik-titik dengan jawaban yang benar!



6. Arya dan Doni adalah pesilat hebat. Setiap berlatih silat, mereka selalu menggunakan seragam hitam, dan topi di kepala. Bentuk bangun datar yang ada pada topi Arya dan Doni adalah.....

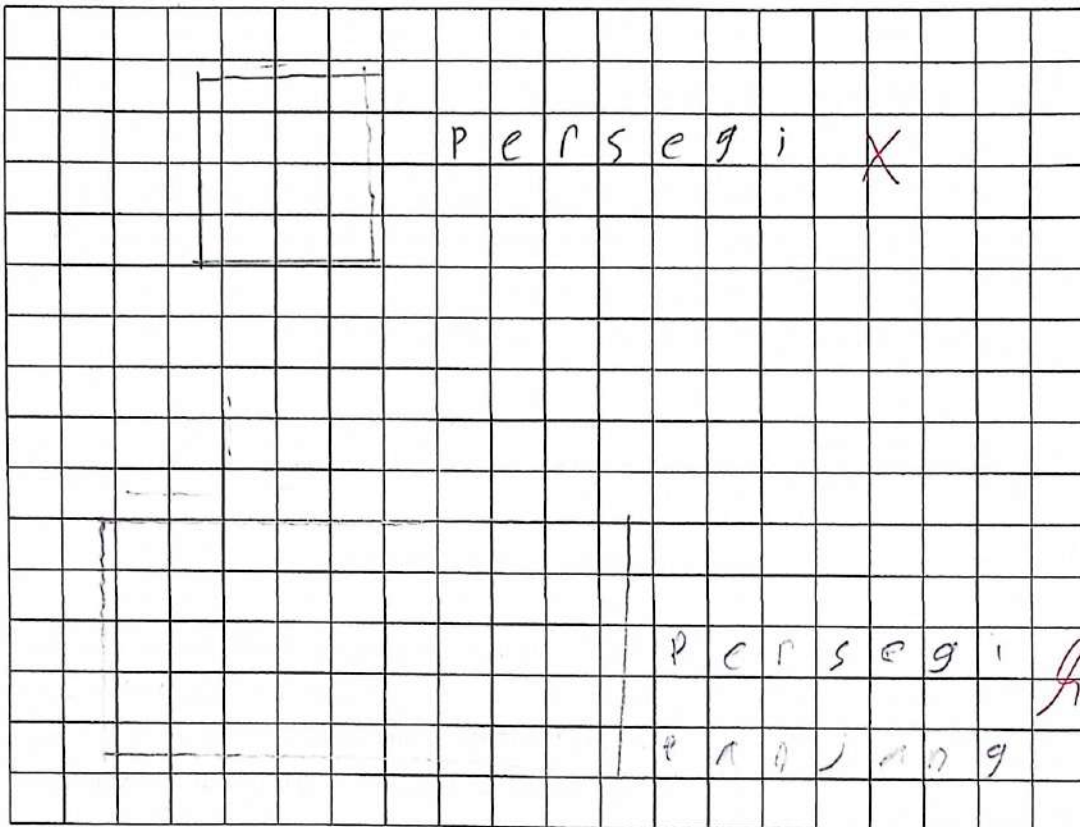
.....Segitiga 79,5



7. Gambar di samping adalah gambar anak tangga yang ada di Candi Dermo, bentuk bangun datar apa yang kamu temukan pada gambar anak tangga disamping? *Persegi panjang 5*


8. Gambarlah bangun persegi dan bangun persegi panjang yang ukurannya berbeda, kemudian berikan keterangan nama bangun datar apa yang sudah kamu buat!

*8.5*



9. Gambarlah tiga macam segitiga yang kamu ketahui, kemudian berikan keterangan nama bangun datar apa yang sudah kamu buat!

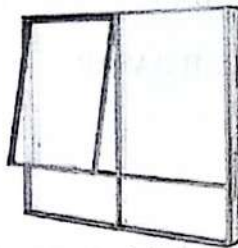
*17*



10. Perhatikan gambar di bawah ini!



Lemari



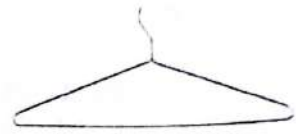
Jendela



Pintu



Penggaris segitiga



Hanger (gantungan baju)



Jam dinding



Plafon eternit atap



Buku



Meja

Kumpulkan benda-benda di atas sesuai dengan sifat yang dimilikinya!

- a. Nama benda yang memiliki 4 sisi yang sama panjang dan memiliki 4 sudut siku-siku

jam, meja, pintu, jendela

8,5

- b. Nama benda yang mempunyai 3 sisi dan 3 titik sudut.

segitiga

17

- c. Nama benda yang memiliki 2 pasang sisi yang berhadapan sama panjang dan sejajar

pintu dan buku

10,5

$$\begin{array}{r} 3,5 \\ 5 \overline{) 17,5} \\ \underline{15} \phantom{0} \\ 20 \phantom{0} \\ \underline{20} \\ 0 \end{array}$$

$$\begin{array}{r} 3,5 \\ 3 \overline{) 10,5} \\ \underline{10} \phantom{0} \\ 5 \phantom{0} \\ \underline{5} \\ 0 \end{array}$$

## POSTEST

Nama : Adel ya

Kelas : 3 <sup>C</sup>tiga

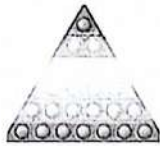
95

**I. Jawablah pertanyaan di bawah ini dengan cara memberikan tanda silang pada salah satu jawaban benar!**

1. Apa nama bangun datar yang memiliki satu sisi miring dan salah satu sudutnya berbentuk siku-siku?

☒ a. Segitiga siku-siku      b. Persegi      c. Lingkaran

2.



Toni mempunyai mainan berbentuk segitiga. Ketiga sisi mainan sama panjang. Ketiga pojoknya sama besar. Berbentuk bangun apakah mainan Toni tersebut?


☐ a. Persegi panjang      b. Layang-layang      ☒ c. Segitiga sama sisi

3.



Nila membuat sapu tangan. Panjang masing-masing sisinya 20 cm. Keempat pojoknya siku-siku. Berbentuk bangun apakah sapu tangan yang dibuat Nila?


☒ a. Persegi      b. Segitiga siku-siku      c. Persegi panjang



4. Pak Arifin berkunjung ke Candi Dermo pada hari Minggu. Saat memasuki wilayah candi, Pak Arifin melihat ada sebuah taman berbentuk segiempat di depan Candi. Taman tersebut memiliki 2 pasang sisi yang berhadapan sama panjang dan sejajar serta memiliki 4 sudut siku-siku. Berbentuk bangun apakah taman yang dilihat Pak Arifin?

☒ a. Persegi panjang      b. Lingkaran      c. Jajar genjang

5.




Ibu mempunyai kue berbentuk segitiga. Kedua sisi kue itu sama panjang. Kedua pojoknya sama besar. Berbentuk apakah kue ibu tersebut?

☒ a. Segitiga sama kaki      b. Persegi panjang      c. Segitiga siku-siku

**II. Jawablah pertanyaan di bawah ini dengan cara mengisi titik-titik dengan jawaban yang benar!**

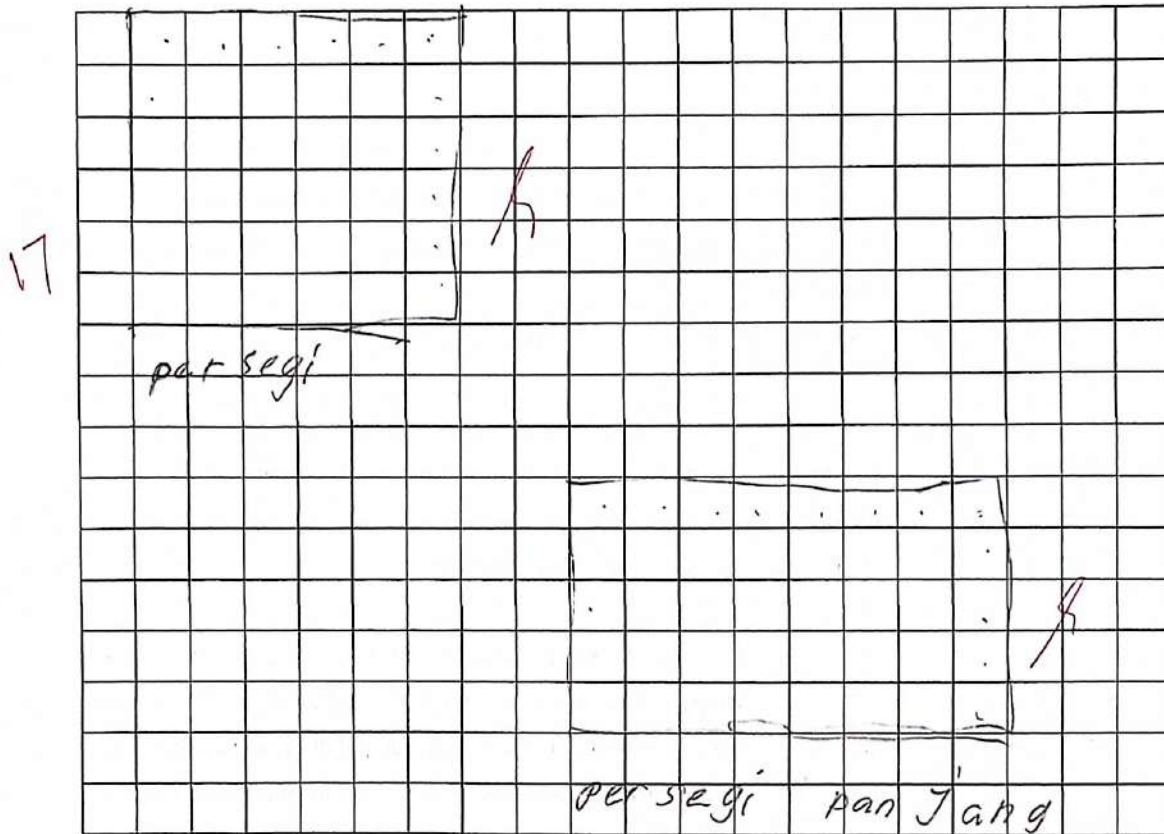


6. Arya dan Doni adalah pesilat hebat. Setiap berlatih silat, mereka selalu menggunakan seragam hitam, dan topi di kepala. Bentuk bangun datar yang ada pada topi Arya dan Doni adalah segitiga

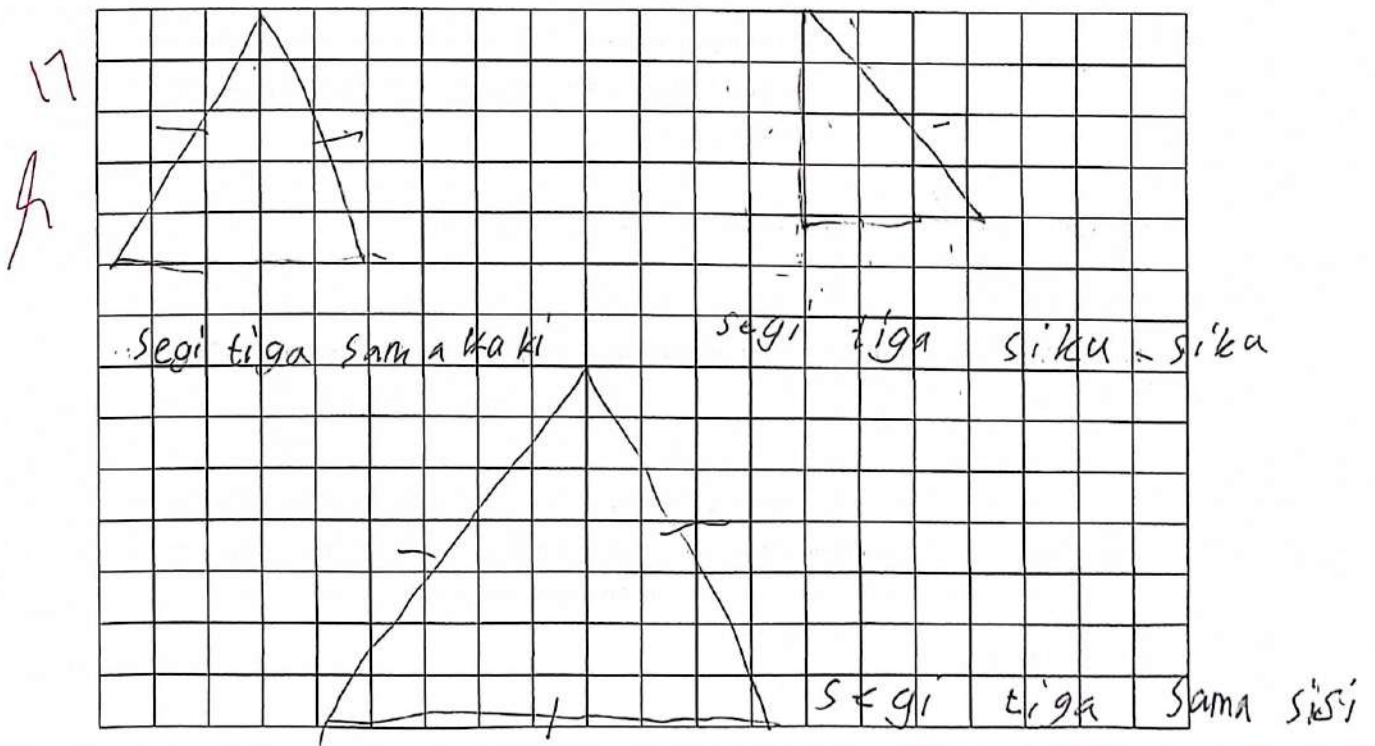


7. Gambar di samping adalah gambar anak tangga yang ada di Candi Dermo, bentuk bangun datar apa yang kamu temukan pada gambar anak tangga disamping? .....

8. Gambarlah bangun persegi dan bangun persegi panjang yang ukurannya berbeda, kemudian berikan keterangan nama bangun datar apa yang sudah kamu buat!



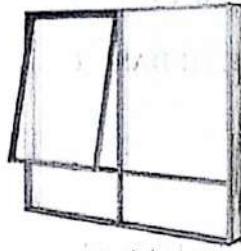
9. Gambarlah tiga macam segitiga yang kamu ketahui, kemudian berikan keterangan nama bangun datar apa yang sudah kamu buat!



10. Perhatikan gambar di bawah ini!




Lemari



Jendela



Pintu



Penggaris segitiga



Hanger (gantungan baju)



Jam dinding



Plafon eternit atap



Buku



Meja

Kumpulkan benda-benda di atas sesuai dengan sifat yang dimilikinya!

- a. Nama benda yang memiliki 4 sisi yang sama panjang dan memiliki 4 sudut siku-siku

plafon eternit atap, jam dinding

17

- b. Nama benda yang mempunyai 3 sisi, dan 3 titik sudut.

penggaris segitiga, hanger

17

- c. Nama benda yang memiliki 2 pasang sisi yang berhadapan sama panjang dan sejajar

lemari, jendela, pintu, buku, meja

17

## POSTEST

Nama :

Kelas :

60

I. Jawablah pertanyaan di bawah ini dengan cara memberikan tanda silang pada salah satu jawaban benar!

1. Apa nama bangun datar yang memiliki satu sisi miring dan salah satu sudutnya berbentuk siku-siku?

☒ a. Segitiga siku-siku      b. Persegi      c. Lingkaran

2.



Toni mempunyai mainan berbentuk segitiga. Ketiga sisi mainan sama panjang. Ketiga pojoknya sama besar. Berbentuk bangun apakah mainan Toni tersebut?


a. Persegi panjang      ☒ b. Layang-layang      c. Segitiga sama sisi

3.



Nila membuat sapu tangan. Panjang masing-masing sisinya 20 cm. Keempat pojoknya siku-siku. Berbentuk bangun apakah sapu tangan yang dibuat Nila?


☒ a. Persegi      b. Segitiga siku-siku      c. Persegi panjang



4. Pak Arifin berkunjung ke Candi Dermo pada hari Minggu. Saat memasuki wilayah candi, Pak Arifin melihat ada sebuah taman berbentuk segiempat di depan Candi. Taman tersebut memiliki 2 pasang sisi yang berhadapan sama panjang dan sejajar serta memiliki 4 sudut siku-siku. Berbentuk bangun apakah taman yang dilihat Pak Arifin?

☒ a. Persegi panjang      b. Lingkaran      c. Jajar genjang

5.




Ibu mempunyai kue berbentuk segitiga. Kedua sisi kue itu sama panjang. Kedua pojoknya sama besar. Berbentuk apakah kue ibu tersebut?

☒ a. Segitiga sama kaki      b. Persegi panjang      ☒ c. Segitiga siku-siku

II. Jawablah pertanyaan di bawah ini dengan cara mengisi titik-titik dengan jawaban yang benar!



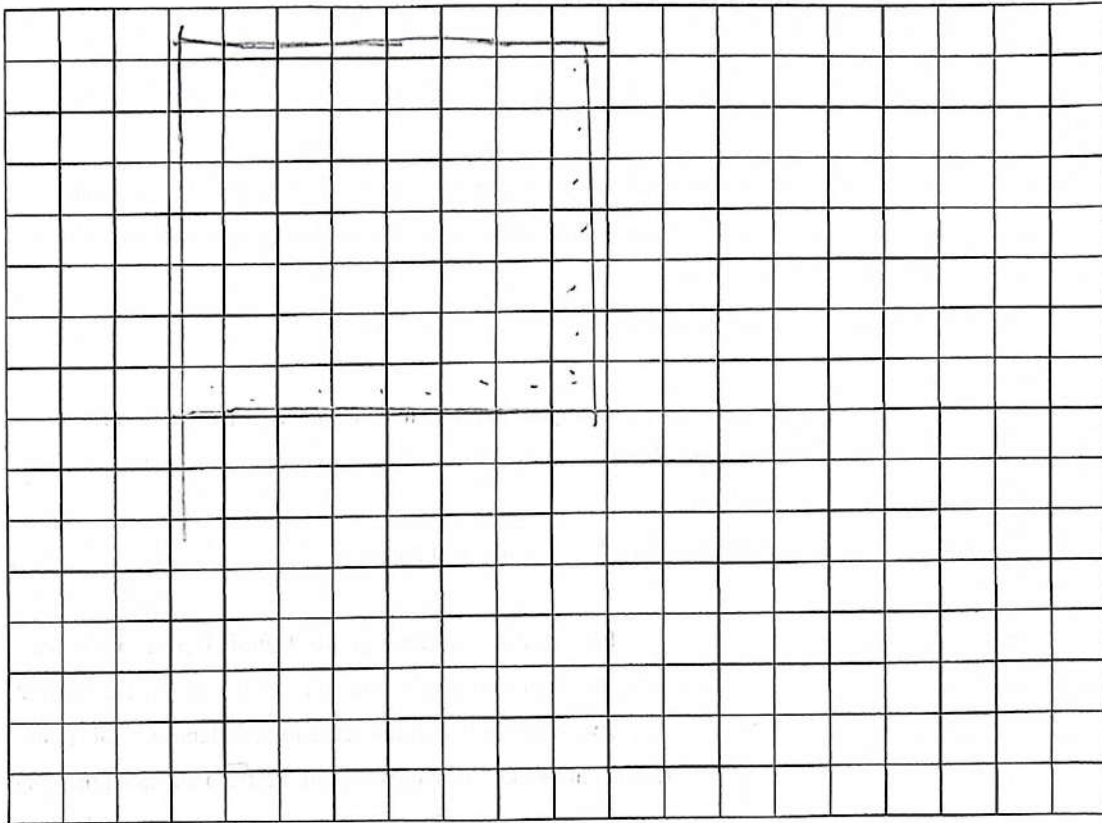
6. Arya dan Doni adalah pesilat hebat. Setiap berlatih silat, mereka selalu menggunakan seragam hitam, dan topi di kepala. Bentuk bangun datar yang ada pada topi Arya dan Doni adalah Segitiga.



7. Gambar di samping adalah gambar anak tangga yang ada di Candi Dermo, bentuk bangun datar apa yang kamu temukan pada gambar anak tangga disamping? .....

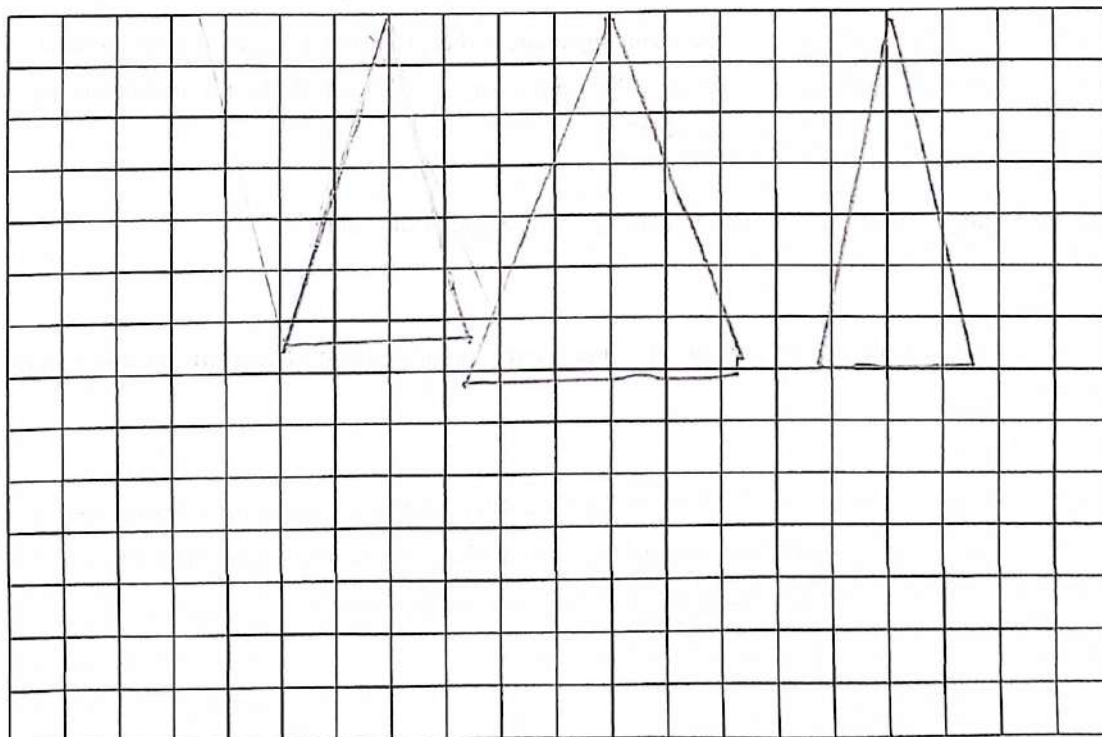
8. Gambarlah bangun persegi dan bangun persegi panjang yang ukurannya berbeda, kemudian berikan keterangan nama bangun datar apa yang sudah kamu buat!

3



9. Gambarlah tiga macam segitiga yang kamu ketahui, kemudian berikan keterangan nama bangun datar apa yang sudah kamu buat!

3

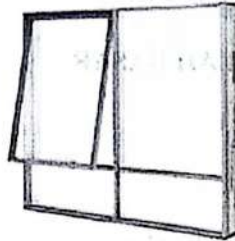


12 3  
5  
6 5

10. Perhatikan gambar di bawah ini!



Lemari



Jendela




Pintu



Penggaris segitiga



Hanger (gantungan baju)



Jam dinding



Plafon eternit atap



Buku



Meja

Kumpulkan benda-benda di atas sesuai dengan sifat yang dimilikinya!

- a. Nama benda yang memiliki 4 sisi yang sama panjang dan memiliki 4 sudut siku-siku

Jam dinding Plafon eternit atap

17

- b. Nama benda yang mempunyai 3 sisi dan 3 titik sudut.

17

- c. Nama benda yang memiliki 2 pasang sisi yang berhadapan sama panjang dan sejajar

17

## POSTEST

99

Nama : *STi Fania rahmatun nisa*

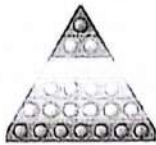
Kelas : 3

**I. Jawablah pertanyaan di bawah ini dengan cara memberikan tanda silang pada salah satu jawaban benar!**

1. Apa nama bangun datar yang memiliki satu sisi miring dan salah satu sudutnya berbentuk siku-siku?

☒ a. Segitiga siku-siku      b. Persegi      c. Lingkaran

2.



Toni mempunyai mainan berbentuk segitiga. Ketiga sisi mainan sama panjang. Ketiga pojoknya sama besar. Berbentuk bangun apakah mainan Toni tersebut?


a. Persegi panjang      b. Layang-layang      ☒ c. Segitiga sama sisi

3.



Nila membuat sapu tangan. Panjang masing-masing sisinya 20 cm. Keempat pojoknya siku-siku. Berbentuk bangun apakah sapu tangan yang dibuat Nila?


☒ a. Persegi      b. Segitiga siku-siku      c. Persegi panjang



4. Pak Arifin berkunjung ke Candi Dermo pada hari Minggu. Saat memasuki wilayah candi, Pak Arifin melihat ada sebuah taman berbentuk segiempat di depan Candi. Taman tersebut memiliki 2 pasang sisi yang berhadapan sama panjang dan sejajar serta memiliki 4 sudut siku-siku. Berbentuk bangun apakah taman yang dilihat Pak Arifin?

☒ a. Persegi panjang      b. Lingkaran      c. Jajar genjang

5.



Ibu mempunyai kue berbentuk segitiga. Kedua sisi kue itu sama panjang. Kedua pojoknya sama besar. Berbentuk apakah kue ibu tersebut?

☒ a. Segitiga sama kaki      b. Persegi panjang      ☒ c. Segitiga siku-siku

**II. Jawablah pertanyaan di bawah ini dengan cara mengisi titik-titik dengan jawaban yang benar!**



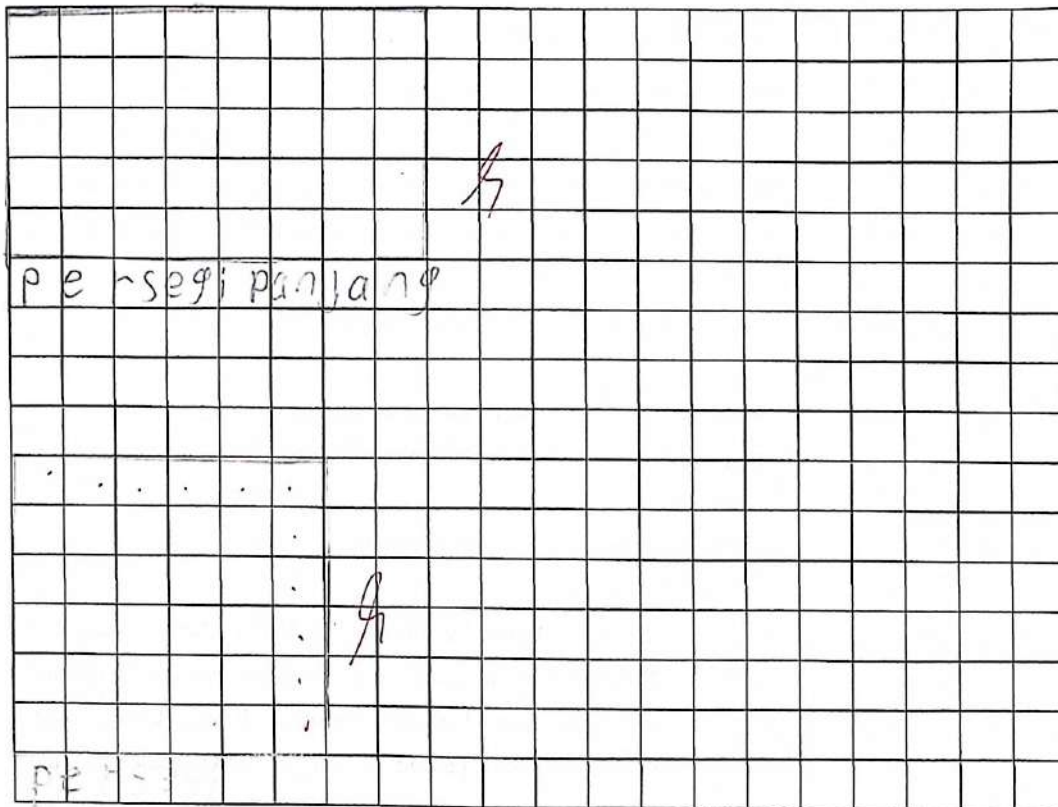
6. Arya dan Doni adalah pesilat hebat. Setiap berlatih silat, mereka selalu menggunakan seragam hitam, dan topi di kepala. Bentuk bangun datar yang ada pada topi Arya dan Doni adalah *segitiga*



7. Gambar di samping adalah gambar anak tangga yang ada di Candi Dermo, bentuk bangun datar apa yang kamu temukan pada gambar anak tangga disamping? *persegi... panjang 5*

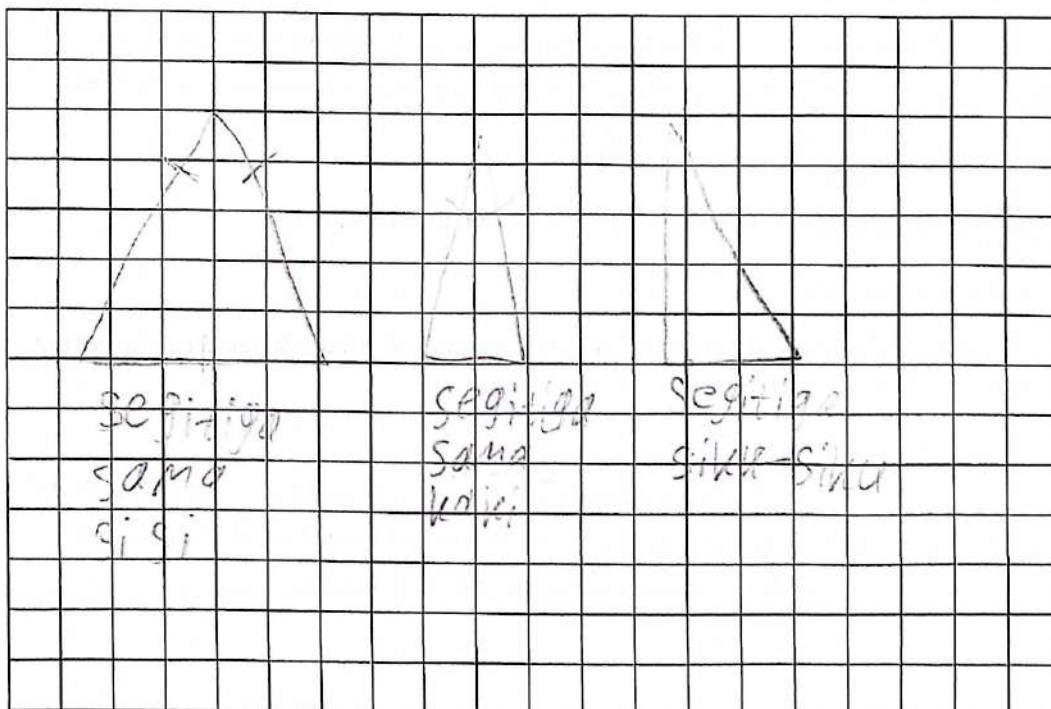
8. Gambarlah bangun persegi dan bangun persegi panjang yang ukurannya berbeda, kemudian berikan keterangan nama bangun datar apa yang sudah kamu buat!

17



9. Gambarlah tiga macam segitiga yang kamu ketahui, kemudian berikan keterangan nama bangun datar apa yang sudah kamu buat!

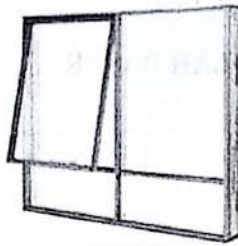
17



10. Perhatikan gambar di bawah ini!



Lemari



Jendela



Pintu



Penggaris segitiga



Hanger (gantungan baju)



Jam dinding



Plafon eternit atap



Buku



Meja

Kumpulkan benda-benda di atas sesuai dengan sifat yang dimilikinya!

- a. Nama benda yang memiliki 4 sisi yang sama panjang dan memiliki 4 sudut siku-siku

17 jam dinding, plafon eternit atap

- b. Nama benda yang mempunyai 3 sisi dan 3 titik sudut.

17 lemari, hanger (gantungan baju)

- c. Nama benda yang memiliki 2 pasang sisi yang berhadapan sama panjang dan sejajar

17 meja, penggaris segitiga, buku dan lemari

## POSTEST

Nama: Akmalah

ERTHA AL-IRSYAD

90,5

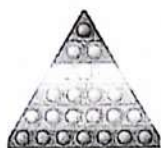
Kelas: 3

**I. Jawablah pertanyaan di bawah ini dengan cara memberikan tanda silang pada salah satu jawaban benar!**

1. Apa nama bangun datar yang memiliki satu sisi miring dan salah satu sudutnya berbentuk siku-siku?

☒ a. Segitiga siku-siku      b. Persegi      c. Lingkaran

2.



Toni mempunyai mainan berbentuk segitiga. Ketiga sisi mainan sama panjang. Ketiga pojoknya sama besar. Berbentuk bangun apakah mainan Toni tersebut?


a. Persegi panjang      b. Layang-layang      ☒ c. Segitiga sama sisi

3.



Nila membuat sapu tangan. Panjang masing-masing sisinya 20 cm. Keempat pojoknya siku-siku. Berbentuk bangun apakah sapu tangan yang dibuat Nila?


☒ a. Persegi      b. Segitiga siku-siku      c. Persegi panjang



4. Pak Arifin berkunjung ke Candi Dermo pada hari Minggu. Saat memasuki wilayah candi, Pak Arifin melihat ada sebuah taman berbentuk segiempat di depan Candi. Taman tersebut memiliki 2 pasang sisi yang berhadapan sama panjang dan sejajar serta memiliki 4 sudut siku-siku. Berbentuk bangun apakah taman yang dilihat Pak Arifin?

☒ a. Persegi panjang      b. Lingkaran      c. Jajar genjang

5.




Ibu mempunyai kue berbentuk segitiga. Kedua sisi kue itu sama panjang. Kedua pojoknya sama besar. Berbentuk apakah kue ibu tersebut?

☒ a. Segitiga sama kaki      b. Persegi panjang      c. Segitiga siku-siku

**II. Jawablah pertanyaan di bawah ini dengan cara mengisi titik-titik dengan jawaban yang benar!**




6. Arya dan Doni adalah pesilat hebat. Setiap berlatih silat, mereka selalu menggunakan seragam hitam, dan topi di kepala. Bentuk bangun datar yang ada pada topi Arya dan Doni adalah..... 5



7. Gambar di samping adalah gambar anak tangga yang ada di Candi Dermo, bentuk bangun datar apa yang kamu temukan pada gambar anak tangga disamping? *persegi panjang* 5

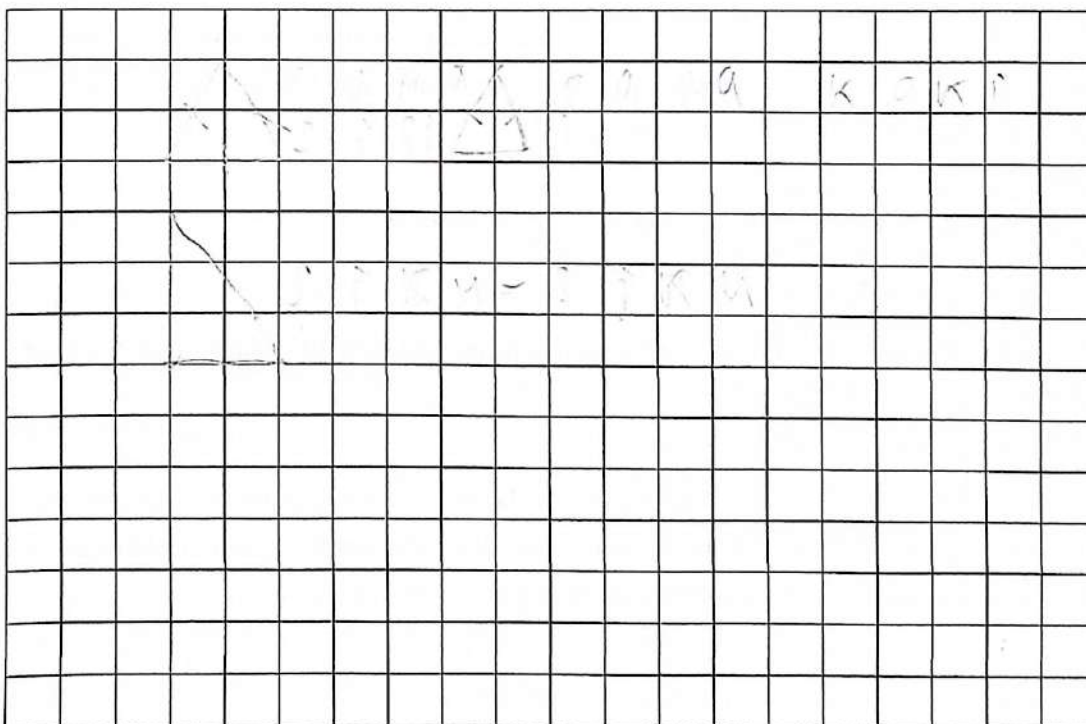
8. Gambarlah bangun persegi dan bangun persegi panjang yang ukurannya berbeda, kemudian berikan keterangan nama bangun datar apa yang sudah kamu buat!

8.5



9. Gambarlah tiga macam segitiga yang kamu ketahui, kemudian berikan keterangan nama bangun datar apa yang sudah kamu buat!

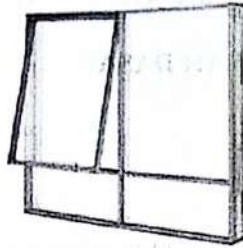
17



10. Perhatikan gambar di bawah ini!



Lemari



Jendela



Pintu



Penggaris segitiga



Hanger (gantungan baju)



Jam dinding



Plafon eternit atap



Buku



Meja

Kumpulkan benda-benda di atas sesuai dengan sifat yang dimilikinya!

- a. Nama benda yang memiliki 4 sisi yang sama panjang dan memiliki 4 sudut siku-siku

Jam Plafon eternit atap

17

- b. Nama benda yang mempunyai 3 sisi dan 3 titik sudut.

Penggaris segitiga

17

- c. Nama benda yang memiliki 2 pasang sisi yang berhadapan sama panjang dan sejajar

Meja

17

## POSTEST

Nama : Almad R. Hana

Kelas : 3

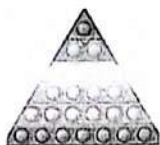
86

**I. Jawablah pertanyaan di bawah ini dengan cara memberikan tanda silang pada salah satu jawaban benar!**

1. Apa nama bangun datar yang memiliki satu sisi miring dan salah satu sudutnya berbentuk siku-siku?

☒ a. Segitiga siku-siku      b. Persegi      c. Lingkaran

2.



Toni mempunyai mainan berbentuk segitiga. Ketiga sisi mainan sama panjang. Ketiga pojoknya sama besar. Berbentuk bangun apakah mainan Toni tersebut?


☐ a. Persegi panjang      b. Layang-layang      ☒ c. Segitiga sama sisi

3.



Nila membuat sapu tangan. Panjang masing-masing sisinya 20 cm. Keempat pojoknya siku-siku. Berbentuk bangun apakah sapu tangan yang dibuat Nila?


☒ a. Persegi      b. Segitiga siku-siku      c. Persegi panjang



4. Pak Arifin berkunjung ke Candi Dermo pada hari Minggu. Saat memasuki wilayah candi, Pak Arifin melihat ada sebuah taman berbentuk segiempat di depan Candi. Taman tersebut memiliki 2 pasang sisi yang berhadapan sama panjang dan sejajar serta memiliki 4 sudut siku-siku. Berbentuk bangun apakah taman yang dilihat Pak Arifin?

☒ a. Persegi panjang      b. Lingkaran      c. Jajar genjang

5.



Ibu mempunyai kue berbentuk segitiga. Kedua sisi kue itu sama panjang. Kedua pojoknya sama besar. Berbentuk apakah kue ibu tersebut?

☒ a. Segitiga sama kaki      b. Persegi panjang      c. Segitiga siku-siku

**II. Jawablah pertanyaan di bawah ini dengan cara mengisi titik-titik dengan jawaban yang benar!**




6. Arya dan Doni adalah pesilat hebat. Setiap berlatih silat, mereka selalu menggunakan seragam hitam, dan topi di kepala. Bentuk bangun datar yang ada pada topi Arya dan Doni adalah.....

Segitiga sama kaki      5

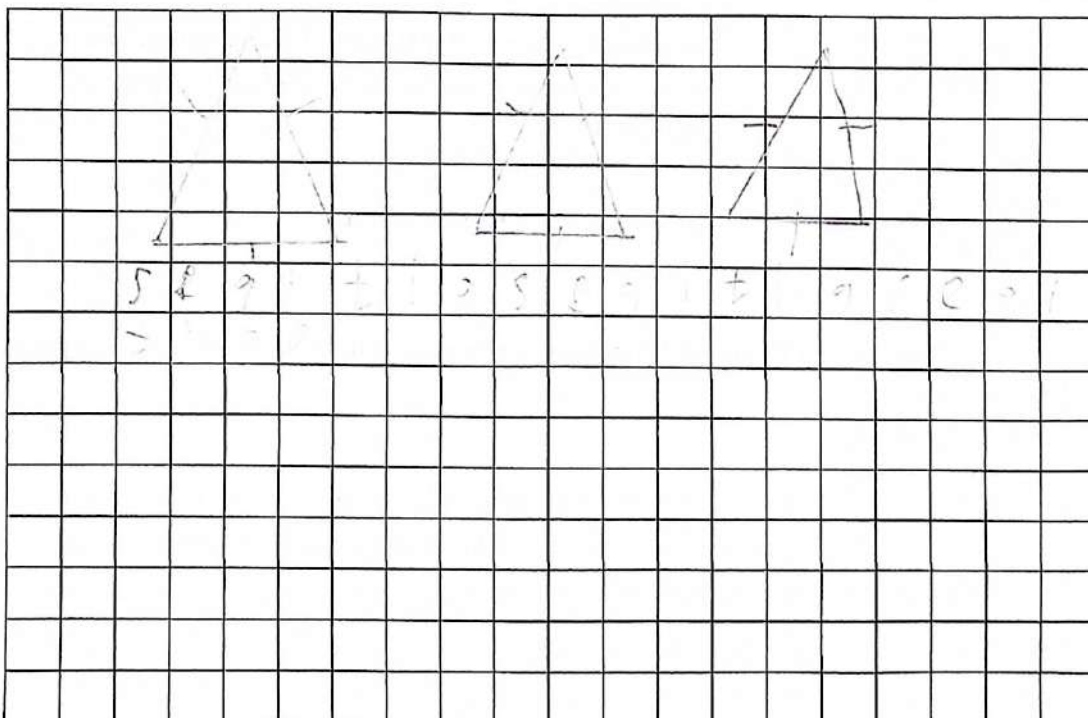


7. Gambar di samping adalah gambar anak tangga yang ada di Candi Dermo, bentuk bangun datar apa yang kamu temukan pada gambar anak tangga disamping? *persegi panjang* 5

8. Gambarlah bangun persegi dan bangun persegi panjang yang ukurannya berbeda, kemudian berikan keterangan nama bangun datar apa yang sudah kamu buat!



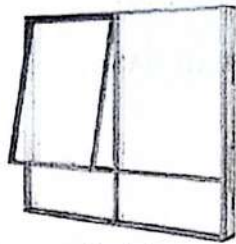
9. Gambarlah tiga macam segitiga yang kamu ketahui, kemudian berikan keterangan nama bangun datar apa yang sudah kamu buat!



10. Perhatikan gambar di bawah ini!



Lemari



Jendela



Pintu



Penggaris segitiga



Hanger (gantungan baju)



Jam dinding



Plafon eternit atap



Buku



Meja

Kumpulkan benda-benda di atas sesuai dengan sifat yang dimilikinya!

- a. Nama benda yang memiliki 4 sisi yang sama panjang dan memiliki 4 sudut siku-siku

17

Jam dinding, Plafon eternit atap

- b. Nama benda yang mempunyai 3 sisi dan 3 titik sudut.

17

Penggaris segitiga, Hanger, Buku

- c. Nama benda yang memiliki 2 pasang sisi yang berhadapan sama panjang dan sejajar

17

Lemari, Meja

## POSTEST

99

Nama : Rasya Abhinava Pratomo

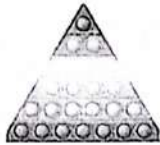
Kelas :

I. Jawablah pertanyaan di bawah ini dengan cara memberikan tanda silang pada salah satu jawaban benar!

1. Apa nama bangun datar yang memiliki satu sisi miring dan salah satu sudutnya berbentuk siku-siku?

- ☒ a. Segitiga siku-siku      b. Persegi      c. Lingkaran

2.



Toni mempunyai mainan berbentuk segitiga. Ketiga sisi mainan sama panjang. Ketiga pojoknya sama besar. Berbentuk bangun apakah mainan Toni tersebut?


- a. Persegi panjang      b. Layang-layang      ☒ c. Segitiga sama sisi

3.



Nila membuat sapu tangan. Panjang masing-masing sisinya 20 cm. Keempat pojoknya siku-siku. Berbentuk bangun apakah sapu tangan yang dibuat Nila?


- ☒ a. Persegi      b. Segitiga siku-siku      c. Persegi panjang



4. Pak Arifin berkunjung ke Candi Dermo pada hari Minggu. Saat memasuki wilayah candi, Pak Arifin melihat ada sebuah taman berbentuk segiempat di depan Candi. Taman tersebut memiliki 2 pasang sisi yang berhadapan sama panjang dan sejajar serta memiliki 4 sudut siku-siku. Berbentuk bangun apakah taman yang dilihat Pak Arifin?

- ☒ a. Persegi panjang      b. Lingkaran      c. Jajar genjang

5.



Ibu mempunyai kue berbentuk segitiga. Kedua sisi kue itu sama panjang. Kedua pojoknya sama besar. Berbentuk apakah kue ibu tersebut?

- ☒ a. Segitiga sama kaki      b. Persegi panjang      ☒ c. Segitiga siku-siku

II. Jawablah pertanyaan di bawah ini dengan cara mengisi titik-titik dengan jawaban yang benar!



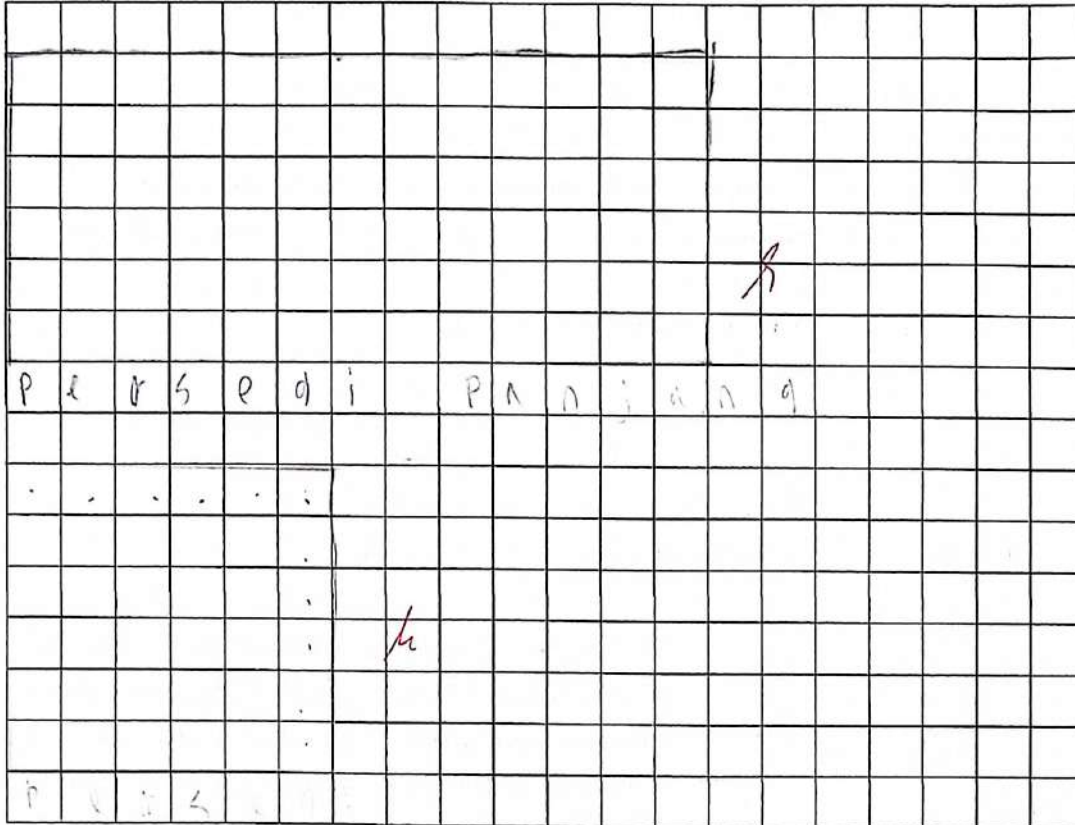
6. Arya dan Doni adalah pesilat hebat. Setiap berlatih silat, mereka selalu menggunakan seragam hitam, dan topi di kepala. Bentuk bangun datar yang ada pada topi Arya dan Doni adalah Segitiga 5



7. Gambar di samping adalah gambar anak tangga yang ada di Candi Dermo, bentuk bangun datar apa yang kamu temukan pada gambar anak tangga disamping? Persegi panjang 5

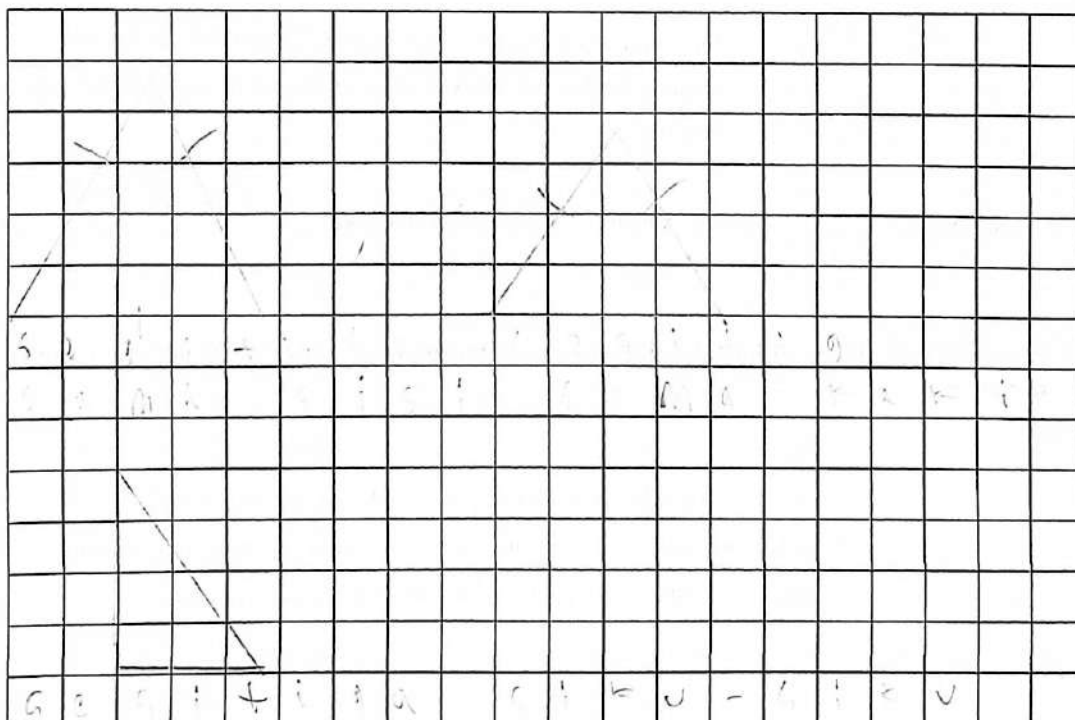
8. Gambarlah bangun persegi dan bangun persegi panjang yang ukurannya berbeda, kemudian berikan keterangan nama bangun datar apa yang sudah kamu buat!

17



9. Gambarlah tiga macam segitiga yang kamu ketahui, kemudian berikan keterangan nama bangun datar apa yang sudah kamu buat!


17



10. Perhatikan gambar di bawah ini!




Lemari



Jendela



Pintu



Penggaris segitiga



Hanger (gantungan baju)



Jam dinding



Plafon eternit atap



Buku



Meja

Kumpulkan benda-benda di atas sesuai dengan sifat yang dimilikinya!

- a. Nama benda yang memiliki 4 sisi yang sama panjang dan memiliki 4 sudut siku-siku

jam dinding, plafon eternit atap

17

- b. Nama benda yang mempunyai 3 sisi dan 3 titik sudut.

penggaris segitiga, hanger

17

- c. Nama benda yang memiliki 2 pasang sisi yang berhadapan sama panjang dan sejajar

lemari, jendela, pintu, meja, buku

17

## POSTEST

85,5

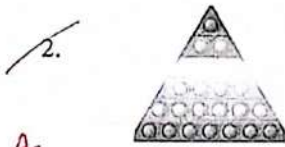
Nama : Feyza

Kelas : 3

I. Jawablah pertanyaan di bawah ini dengan cara memberikan tanda silang pada salah satu jawaban benar!


1. Apa nama bangun datar yang memiliki satu sisi miring dan salah satu sudutnya berbentuk siku-siku?

☒ a. Segitiga siku-siku      b. Persegi      c. Lingkaran




Toni mempunyai mainan berbentuk segitiga. Ketiga sisi mainan sama panjang. Ketiga pojoknya sama besar. Berbentuk bangun apakah mainan Toni tersebut?

☒ a. Persegi panjang      b. Layang-layang      c. Segitiga sama sisi

- 3.
- 
- Keempat pojoknya siku-siku. Berbentuk bangun apakah sapu tangan yang dibuat Nila?

☒ a. Persegi      b. Segitiga siku-siku      c. Persegi panjang



4. Pak Arifin berkunjung ke Candi Dermo pada hari Minggu. Saat memasuki wilayah candi, Pak Arifin melihat ada sebuah taman berbentuk segiempat di depan Candi. Taman tersebut memiliki 2 pasang sisi yang berhadapan sama panjang dan sejajar serta memiliki 4 sudut siku-siku. Berbentuk bangun apakah taman yang dilihat Pak Arifin?

☒ a. Persegi panjang      b. Lingkaran      c. Jajar genjang

5.




Ibu mempunyai kue berbentuk segitiga. Kedua sisi kue itu sama panjang. Kedua pojoknya sama besar. Berbentuk apakah kue ibu tersebut?

☒ a. Segitiga sama kaki      b. Persegi panjang      c. Segitiga siku-siku

II. Jawablah pertanyaan di bawah ini dengan cara mengisi titik-titik dengan jawaban yang benar!



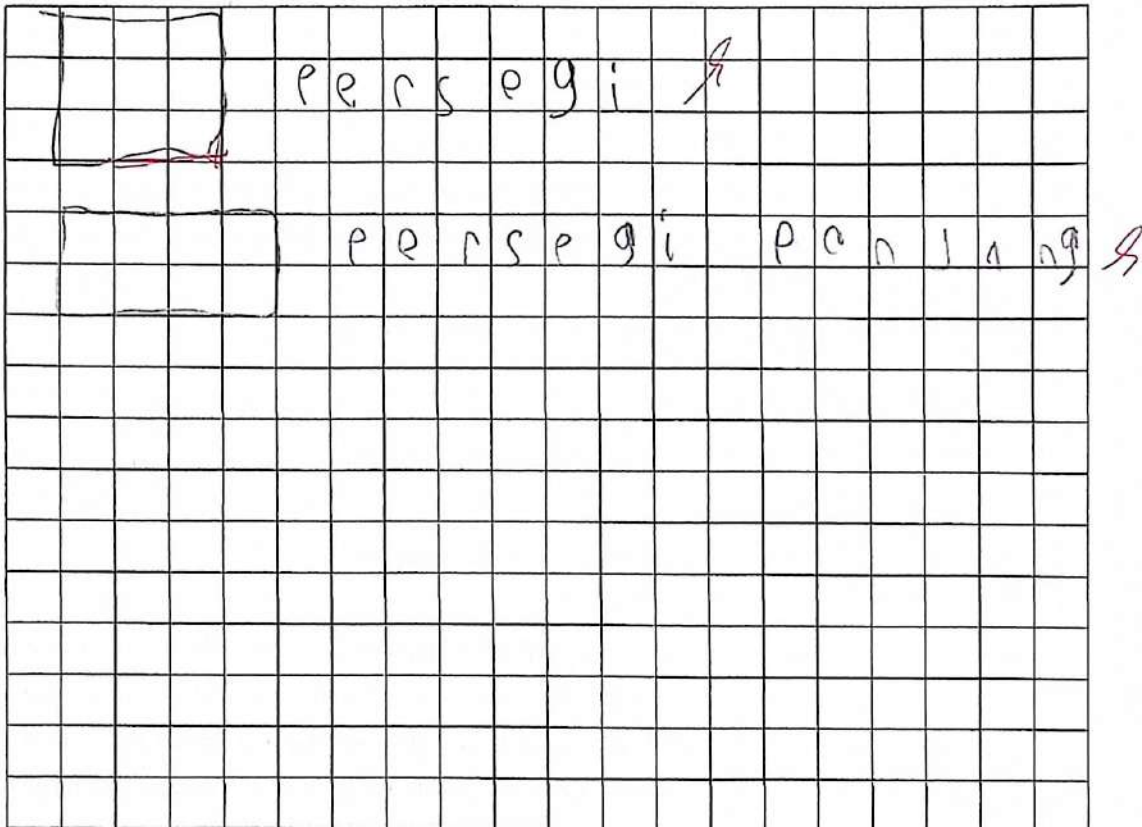
6. Arya dan Doni adalah pesilat hebat. Setiap berlatih silat, mereka selalu menggunakan seragam hitam, dan topi di kepala. Bentuk bangun datar yang ada pada topi Arya dan Doni adalah Segitiga



7. Gambar di samping adalah gambar anak tangga yang ada di Candi Dermo, bentuk bangun datar apa yang kamu temukan pada gambar anak tangga disamping? *persegi panjang 5*

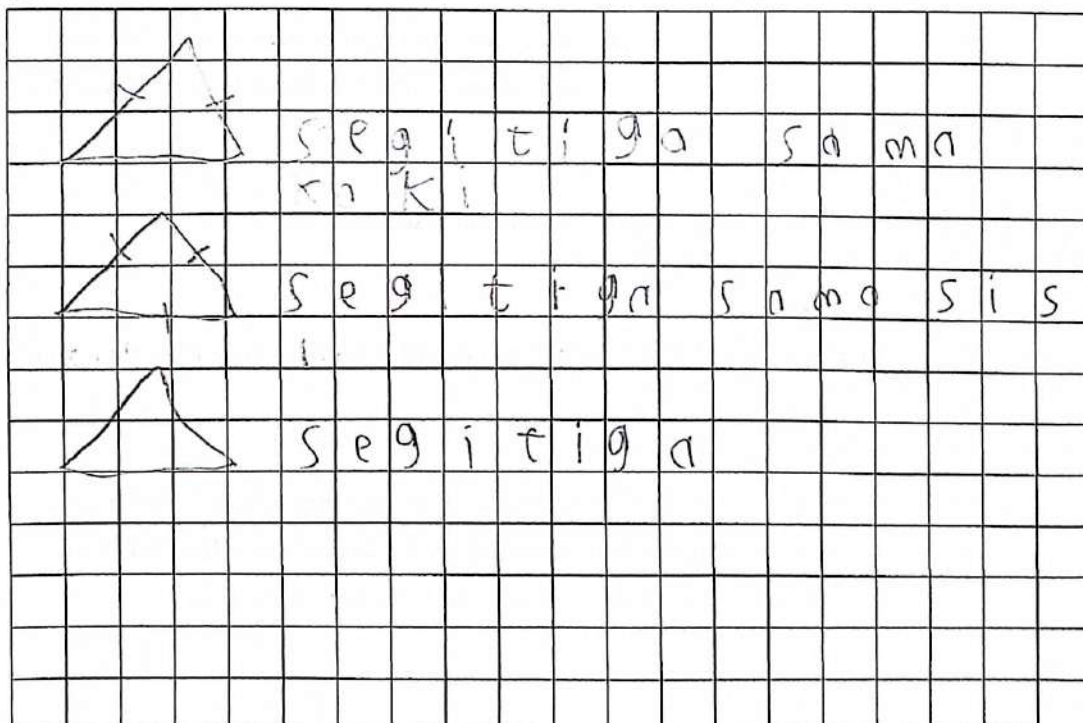
8. Gambarlah bangun persegi dan bangun persegi panjang yang ukurannya berbeda, kemudian berikan keterangan nama bangun datar apa yang sudah kamu buat!

17



9. Gambarlah tiga macam segitiga yang kamu ketahui, kemudian berikan keterangan nama bangun datar apa yang sudah kamu buat!

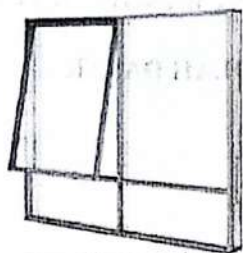
12



10. Perhatikan gambar di bawah ini!




Lemari



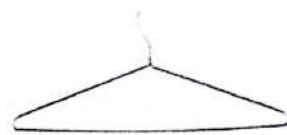
Jendela



Pintu



Penggaris segitiga



Hanger (gantungan baju)



Jam dinding



Plafon eternit atap



Buku



Meja

Kumpulkan benda-benda di atas sesuai dengan sifat yang dimilikinya!

- a. Nama benda yang memiliki 4 sisi yang sama panjang dan memiliki 4 sudut siku-siku

~~Buku, jam, lemari, meja~~

8,5

- b. Nama benda yang mempunyai 3 sisi dan 3 titik sudut.

Segitiga, Penggaris segitiga, Hanger

17

- c. Nama benda yang memiliki 2 pasang sisi yang berhadapan sama panjang dan sejajar

Buku, Plafon

7

## POSTEST


Nama : Zha Pira Firdaus <Fira>  
Kelas : 3 <tiga>




**I. Jawablah pertanyaan di bawah ini dengan cara memberikan tanda silang pada salah satu jawaban benar!**

1. Apa nama bangun datar yang memiliki satu sisi miring dan salah satu sudutnya berbentuk siku-siku?


☒ a. Segitiga siku-siku      b. Persegi      c. Lingkaran

2.  Toni mempunyai mainan berbentuk segitiga. Ketiga sisi mainan sama panjang. Ketiga pojoknya sama besar. Berbentuk bangun apakah mainan Toni tersebut?

☐ a. Persegi panjang      b. Layang-layang      ☒ c. Segitiga sama sisi


3.  Nila membuat sapu tangan. Panjang masing-masing sisinya 20 cm. Keempat pojoknya siku-siku. Berbentuk bangun apakah sapu tangan yang dibuat Nila?

☒ a. Persegi      b. Segitiga siku-siku      c. Persegi panjang



4. Pak Arifin berkunjung ke Candi Dermo pada hari Minggu. Saat memasuki wilayah candi, Pak Arifin melihat ada sebuah taman berbentuk segiempat di depan Candi. Taman tersebut memiliki 2 pasang sisi yang berhadapan sama panjang dan sejajar serta memiliki 4 sudut siku-siku. Berbentuk bangun apakah taman yang dilihat Pak Arifin?

☒ a. Persegi panjang      b. Lingkaran      c. Jajar genjang

5.  Ibu mempunyai kue berbentuk segitiga. Kedua sisi kue itu sama panjang. Kedua pojoknya sama besar. Berbentuk apakah kue ibu tersebut?


☒ a. Segitiga sama kaki      b. Persegi panjang      c. Segitiga siku-siku

**II. Jawablah pertanyaan di bawah ini dengan cara mengisi titik-titik dengan jawaban yang benar!**



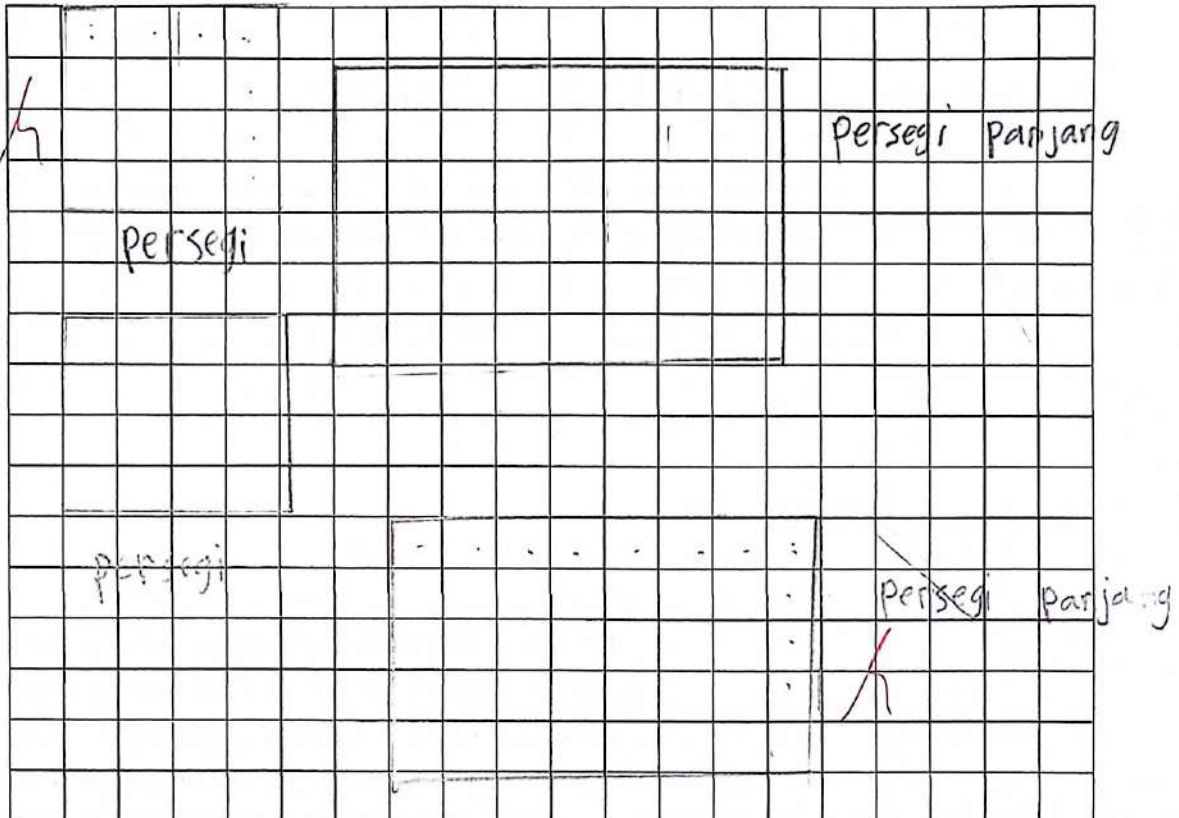
6. Arya dan Doni adalah pesilat hebat. Setiap berlatih silat, mereka selalu menggunakan seragam hitam, dan topi di kepala. Bentuk bangun datar yang ada pada topi Arya dan Doni adalah Segitiga.

5

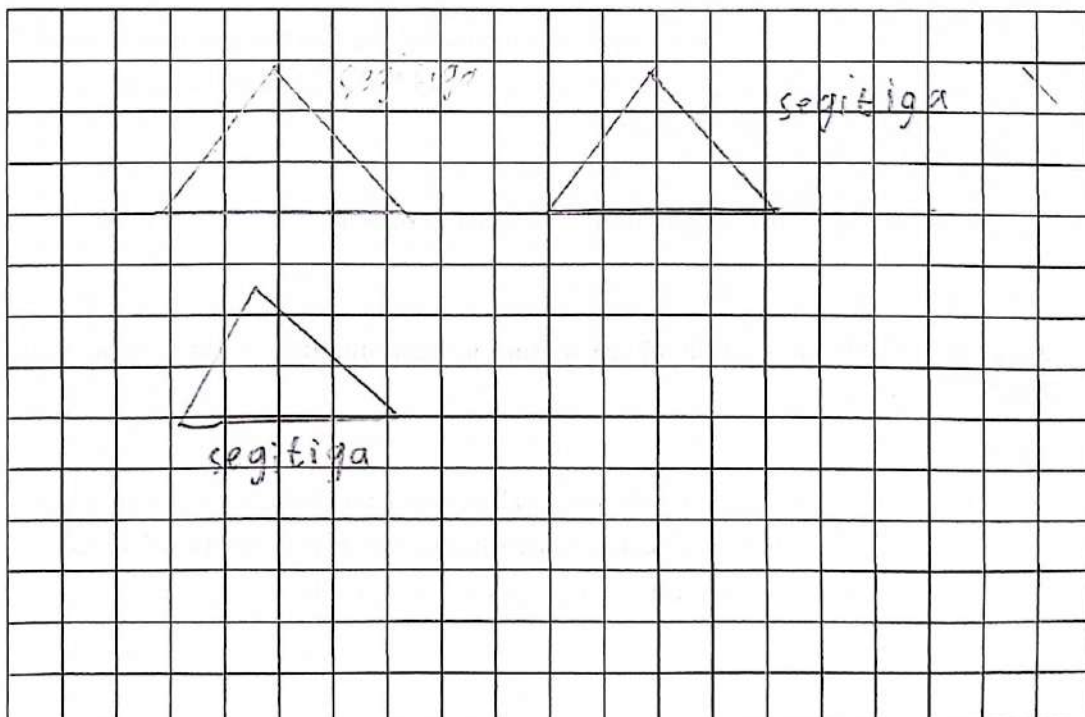


7. Gambar di samping adalah gambar anak tangga yang ada di Candi Dermo, bentuk bangun datar apa yang kamu temukan pada gambar anak tangga disamping? persegi panjang 5

8. Gambarlah bangun persegi dan bangun persegi panjang yang ukurannya berbeda, kemudian berikan keterangan nama bangun datar apa yang sudah kamu buat!



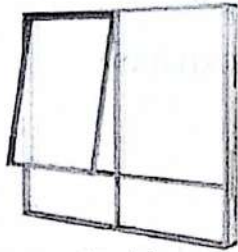
9. Gambarlah tiga macam segitiga yang kamu ketahui, kemudian berikan keterangan nama bangun datar apa yang sudah kamu buat!



10. Perhatikan gambar di bawah ini!




Lemari



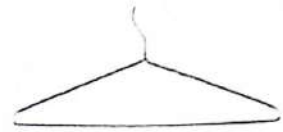
Jendela



Pintu




Penggaris segitiga



Hanger (gantungan baju)



Jam dinding



Plafon eternit atap



Buku



Meja

Kumpulkan benda-benda di atas sesuai dengan sifat yang dimilikinya!

- a. Nama benda yang memiliki 4 sisi yang sama panjang dan memiliki 4 sudut siku-siku

17

jam dinding plafon buku meja pintu jendela

lemari

- b. Nama benda yang mempunyai 3 sisi dan 3 titik sudut.

Penggaris segitiga

8,5

- c. Nama benda yang memiliki 2 pasang sisi yang berhadapan sama panjang dan sejajar

Hanger (gantungan baju)

## POSTEST

Nama : Iyan

Kelas : Kelas 3

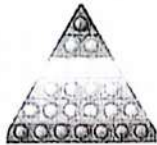
66

**I. Jawablah pertanyaan di bawah ini dengan cara memberikan tanda silang pada salah satu jawaban benar!**

1. Apa nama bangun datar yang memiliki satu sisi miring dan salah satu sudutnya berbentuk siku-siku?

☒ a. Segitiga siku-siku      b. Persegi      c. Lingkaran

2.



Toni mempunyai mainan berbentuk segitiga. Ketiga sisi mainan sama panjang. Ketiga pojoknya sama besar. Berbentuk bangun apakah mainan Toni tersebut?


☒ a. Persegi panjang      b. Layang-layang      ☒ c. Segitiga sama sisi

3.



Nila membuat sapu tangan. Panjang masing-masing sisinya 20 cm. Keempat pojoknya siku-siku. Berbentuk bangun apakah sapu tangan yang dibuat Nila?


☒ a. Persegi      b. Segitiga siku-siku      c. Persegi panjang



4. Pak Arifin berkunjung ke Candi Dermo pada hari Minggu. Saat memasuki wilayah candi, Pak Arifin melihat ada sebuah taman berbentuk segiempat di depan Candi. Taman tersebut memiliki 2 pasang sisi yang berhadapan sama panjang dan sejajar serta memiliki 4 sudut siku-siku. Berbentuk bangun apakah taman yang dilihat Pak Arifin?

☒ a. Persegi panjang      b. Lingkaran      c. Jajar genjang

5.




Ibu mempunyai kue berbentuk segitiga. Kedua sisi kue itu sama panjang. Kedua pojoknya sama besar. Berbentuk apakah kue ibu tersebut?

☒ a. Segitiga sama kaki      b. Persegi panjang      c. Segitiga siku-siku

**II. Jawablah pertanyaan di bawah ini dengan cara mengisi titik-titik dengan jawaban yang benar!**

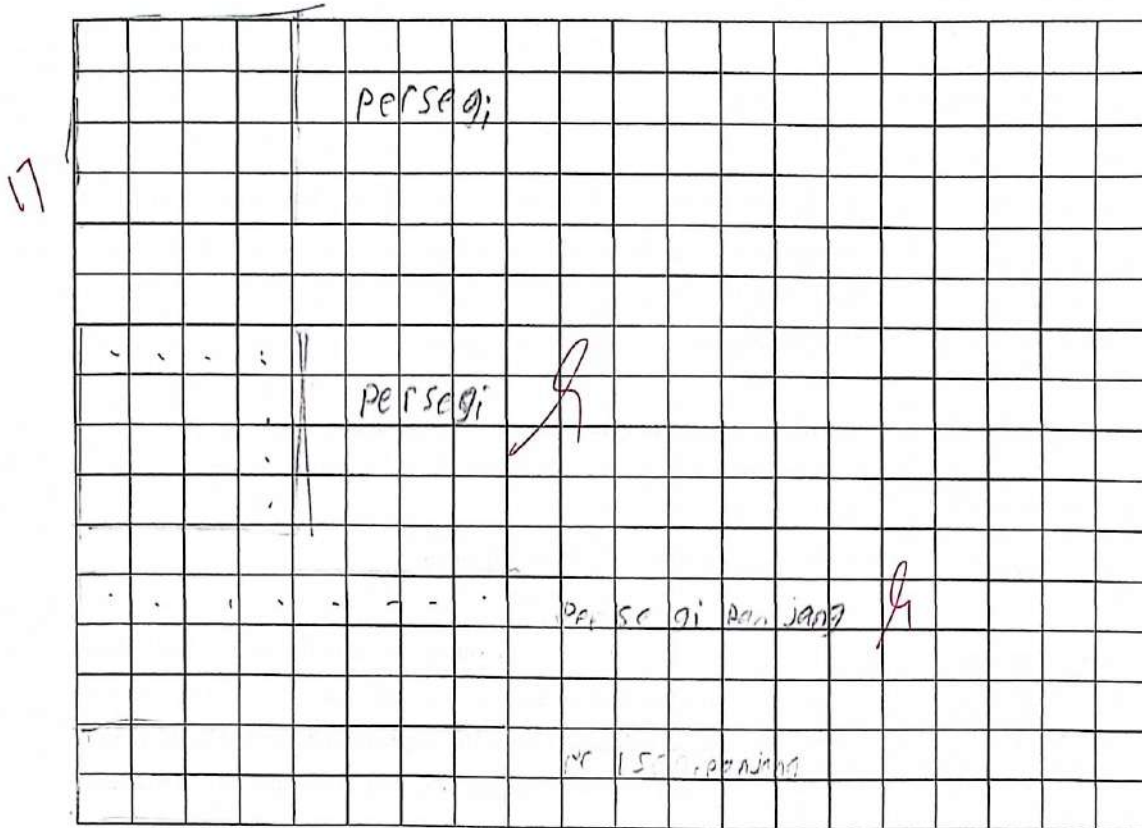


6. Arya dan Doni adalah pesilat hebat. Setiap berlatih silat, mereka selalu menggunakan seragam hitam, dan topi di kepala. Bentuk bangun datar yang ada pada topi Arya dan Doni adalah Segitiga 5

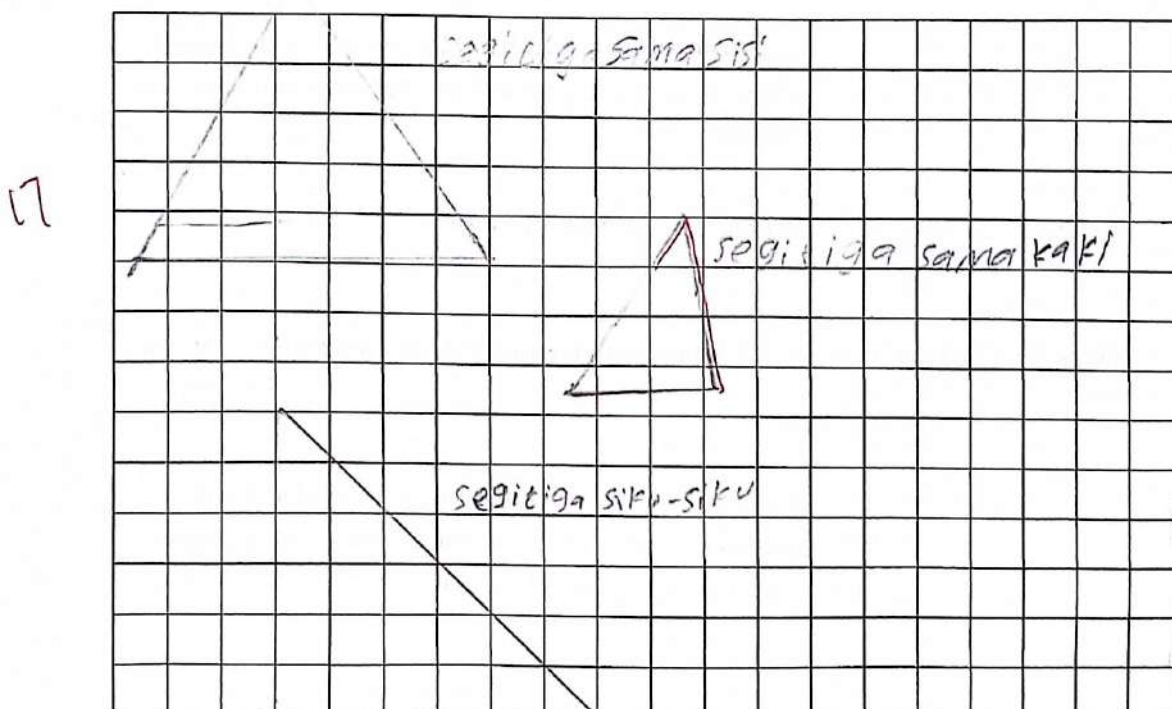


7. Gambar di samping adalah gambar anak tangga yang ada di Candi Dermo, bentuk bangun datar apa yang kamu temukan pada gambar anak tangga disamping? persegi panjang 5

8. Gambarlah bangun persegi dan bangun persegi panjang yang ukurannya berbeda, kemudian berikan keterangan nama bangun datar apa yang sudah kamu buat!



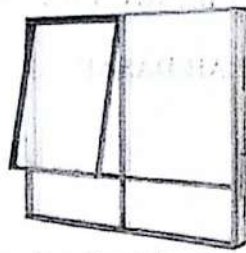
9. Gambarlah tiga macam segitiga yang kamu ketahui, kemudian berikan keterangan nama bangun datar apa yang sudah kamu buat!



10. Perhatikan gambar di bawah ini!




Lemari



Jendela



Pintu



Penggaris segitiga



Hanger (gantungan baju)



Jam dinding



Plafon eternit atap



Buku



Meja

Kumpulkan benda-benda di atas sesuai dengan sifat yang dimilikinya!

a. Nama benda yang memiliki 4 sisi yang sama panjang dan memiliki 4 sudut siku-siku

lemari, meja, jendela, buku

b. Nama benda yang mempunyai 3 sisi dan 3 titik sudut.

penggaris segitiga

17

c. Nama benda yang memiliki 2 pasang sisi yang berhadapan sama panjang dan sejajar

plafon eternit atap

## POSTEST

Nama : Kevin

Kelas : 3


67,5

I. Jawablah pertanyaan di bawah ini dengan cara memberikan tanda silang pada salah satu jawaban benar!

1. Apa nama bangun datar yang memiliki satu sisi miring dan salah satu sudutnya berbentuk siku-siku?

☒ a. Segitiga siku-siku      b. Persegi      c. Lingkaran

2.



Toni mempunyai mainan berbentuk segitiga. Ketiga sisi mainan sama panjang. Ketiga pojoknya sama besar. Berbentuk bangun apakah mainan Toni tersebut?


a. Persegi panjang      b. Layang-layang      ☒ c. Segitiga sama sisi

3.



Nila membuat sapu tangan. Panjang masing-masing sisinya 20 cm. Keempat pojoknya siku-siku. Berbentuk bangun apakah sapu tangan yang dibuat Nila?


☒ a. Persegi      b. Segitiga siku-siku      c. Persegi panjang



4. Pak Arifin berkunjung ke Candi Dermo pada hari Minggu. Saat memasuki wilayah candi, Pak Arifin melihat ada sebuah taman berbentuk segiempat di depan Candi. Taman tersebut memiliki 2 pasang sisi yang berhadapan sama panjang dan sejajar serta memiliki 4 sudut siku-siku. Berbentuk bangun apakah taman yang dilihat Pak Arifin?

☒ a. Persegi panjang      b. Lingkaran      c. Jajar genjang

5.




Ibu mempunyai kue berbentuk segitiga. Kedua sisi kue itu sama panjang. Kedua pojoknya sama besar. Berbentuk apakah kue ibu tersebut?

☒ a. Segitiga sama kaki      b. Persegi panjang      c. Segitiga siku-siku

II. Jawablah pertanyaan di bawah ini dengan cara mengisi titik-titik dengan jawaban yang benar!



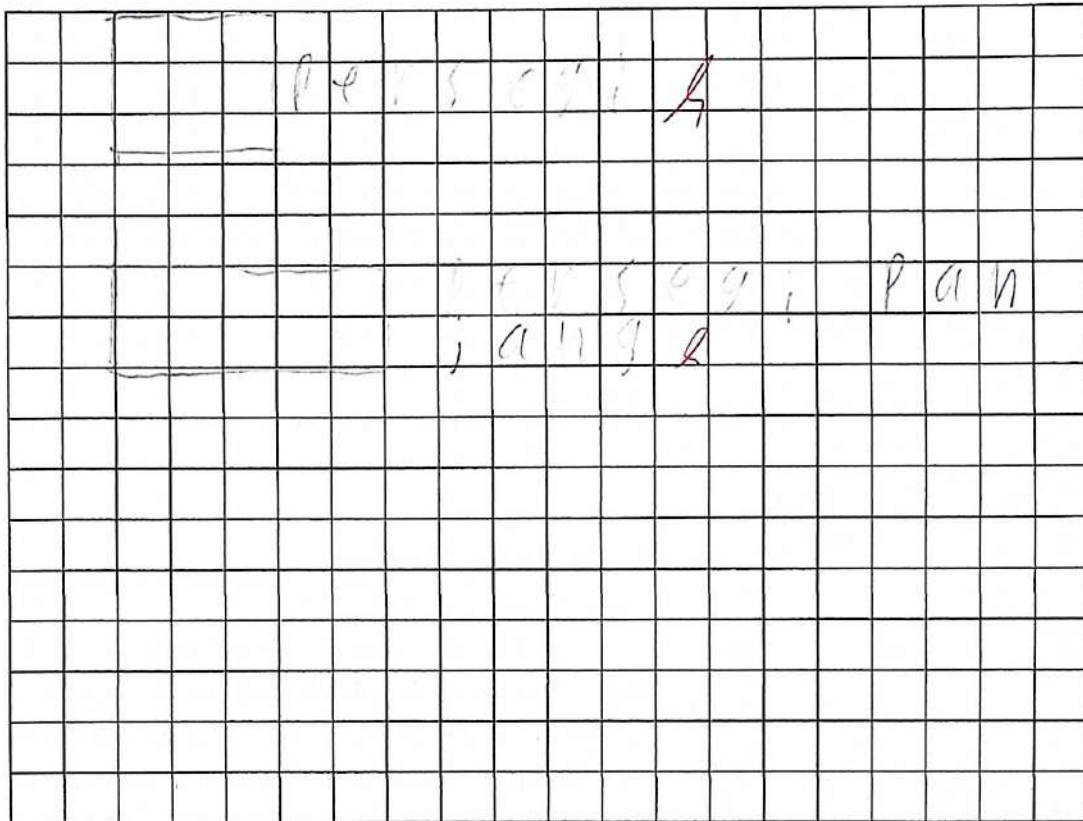
6. Arya dan Doni adalah pesilat hebat. Setiap berlatih silat, mereka selalu menggunakan seragam hitam, dan topi di kepala. Bentuk bangun datar yang ada pada topi Arya dan Doni adalah..... 5



7. Gambar di samping adalah gambar anak tangga yang ada di Candi Dermo, bentuk bangun datar apa yang kamu temukan pada gambar anak tangga disamping? .....

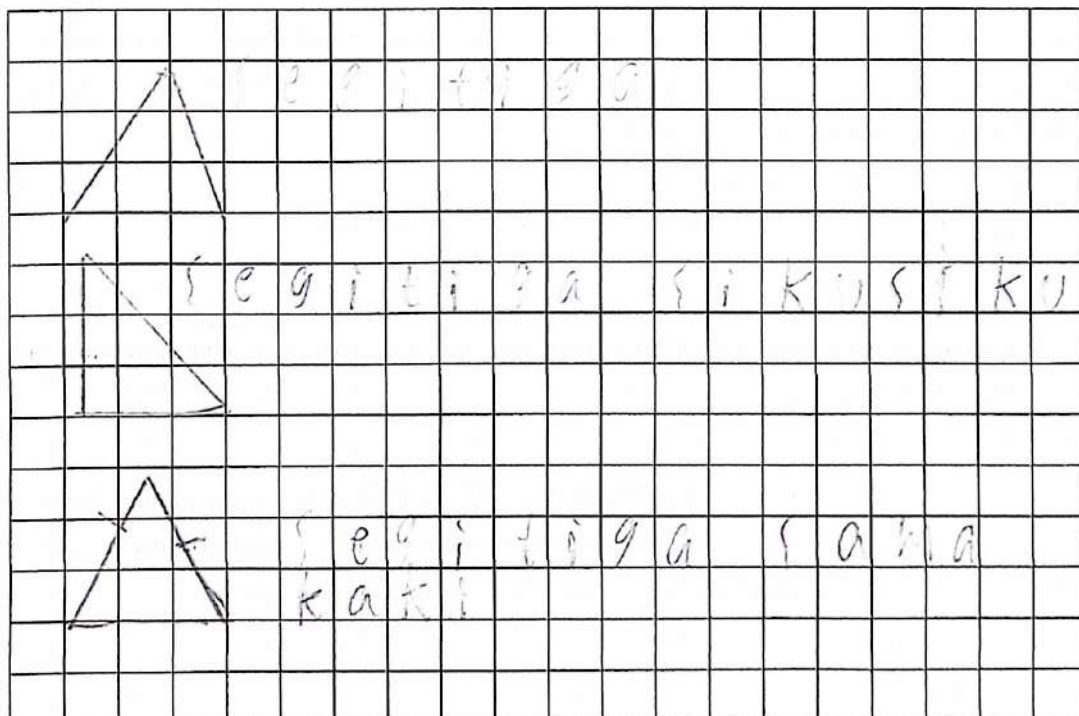
8. Gambarlah bangun persegi dan bangun persegi panjang yang ukurannya berbeda, kemudian berikan keterangan nama bangun datar apa yang sudah kamu buat!

17



9. Gambarlah tiga macam segitiga yang kamu ketahui, kemudian berikan keterangan nama bangun datar apa yang sudah kamu buat!

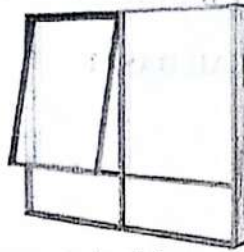
15



10. Perhatikan gambar di bawah ini!




Lemari



Jendela



Pintu




Penggaris segitiga



Hanger (gantungan baju)



Jam dinding



Plafon eternit atap



Buku



Meja

Kumpulkan benda-benda di atas sesuai dengan sifat yang dimilikinya!

- a. Nama benda yang memiliki 4 sisi yang sama panjang dan memiliki 4 sudut siku-siku

~~pintu, lemari, jendela, meja, buku~~  
jam

815

- b. Nama benda yang mempunyai 3 sisi dan 3 titik sudut.

17

- c. Nama benda yang memiliki 2 pasang sisi yang berhadapan sama panjang dan sejajar

plafon eternit atap

## POSTEST

63,5


Nama : Halwa dzakir almuttaQin  
Kelas : 3

**I. Jawablah pertanyaan di bawah ini dengan cara memberikan tanda silang pada salah satu jawaban benar!**

1. Apa nama bangun datar yang memiliki satu sisi miring dan salah satu sudutnya berbentuk siku-siku?

☒ a. Segitiga siku-siku      b. Persegi      c. Lingkaran

2.



Toni mempunyai mainan berbentuk segitiga. Ketiga sisi mainan sama panjang. Ketiga pojoknya sama besar. Berbentuk bangun apakah mainan Toni tersebut?


☐ a. Persegi panjang      b. Layang-layang      ☒ c. Segitiga sama sisi

3.



Nila membuat sapu tangan. Panjang masing-masing sisinya 20 cm. Keempat pojoknya siku-siku. Berbentuk bangun apakah sapu tangan yang dibuat Nila?

☒ a. Persegi      b. Segitiga siku-siku      c. Persegi panjang



4. Pak Arifin berkunjung ke Candi Dermo pada hari Minggu. Saat memasuki wilayah candi, Pak Arifin melihat ada sebuah taman berbentuk segiempat di depan Candi. Taman tersebut memiliki 2 pasang sisi yang berhadapan sama panjang dan sejajar serta memiliki 4 sudut siku-siku. Berbentuk bangun apakah taman yang dilihat Pak Arifin?

☒ a. Persegi panjang      b. Lingkaran      ☒ c. Jajar genjang

5.



Ibu mempunyai kue berbentuk segitiga. Kedua sisi kue itu sama panjang. Kedua pojoknya sama besar. Berbentuk apakah kue ibu tersebut?

☒ a. Segitiga sama kaki      b. Persegi panjang      c. Segitiga siku-siku

**II. Jawablah pertanyaan di bawah ini dengan cara mengisi titik-titik dengan jawaban yang benar!**




6. Arya dan Doni adalah pesilat hebat. Setiap berlatih silat, mereka selalu menggunakan seragam hitam, dan topi di kepala. Bentuk bangun datar yang ada pada topi Arya dan Doni adalah ...a.g.i.t.i.g.a... 5

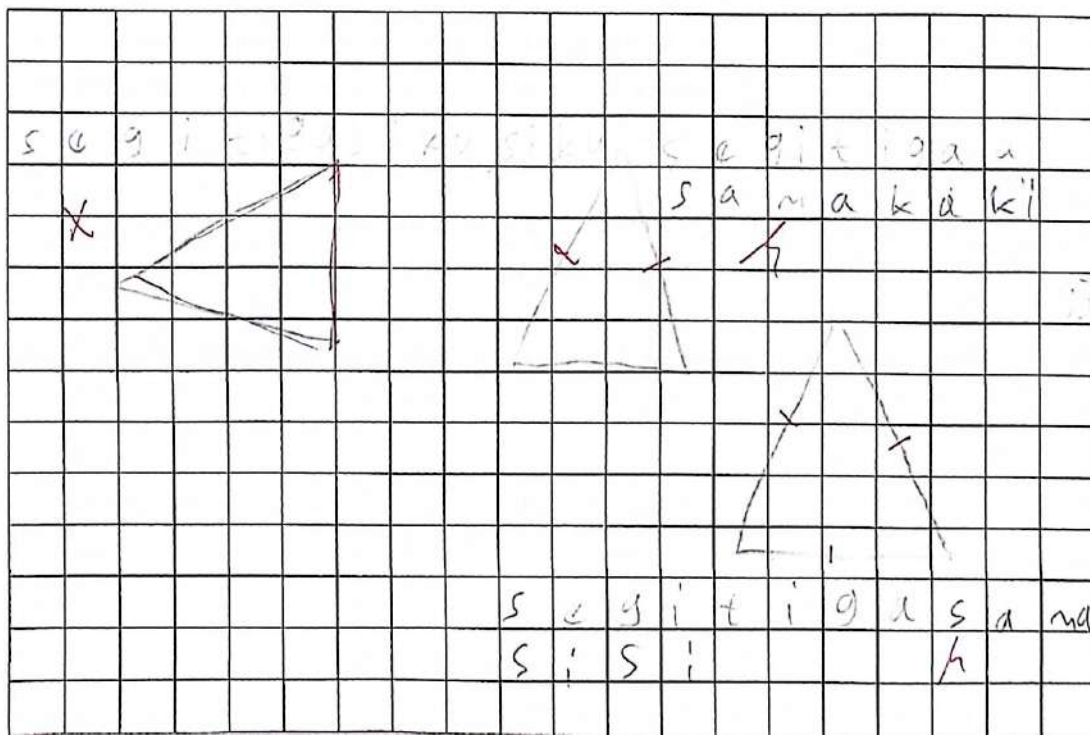


7. Gambar di samping adalah gambar anak tangga yang ada di Candi Dermo, bentuk bangun datar apa yang kamu temukan pada gambar anak tangga disamping? Persegi Panjang 5

8. Gambarlah bangun persegi dan bangun persegi panjang yang ukurannya berbeda, kemudian berikan keterangan nama bangun datar apa yang sudah kamu buat!



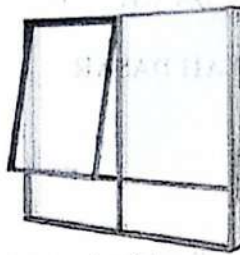
9. Gambarlah tiga macam segitiga yang kamu ketahui, kemudian berikan keterangan nama bangun datar apa yang sudah kamu buat!



10. Perhatikan gambar di bawah ini!




Lemari



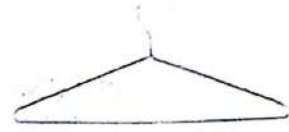
Jendela




Pintu



Penggaris segitiga



Hanger (gantungan baju)



Jam dinding



Plafon eternit atap



Buku



Meja

Kumpulkan benda-benda di atas sesuai dengan sifat yang dimilikinya!

- a. Nama benda yang memiliki 4 sisi yang sama panjang dan memiliki 4 sudut siku-siku

*Jam dinding*  
.....  
.....  
.....  
.....

8,5

- b. Nama benda yang mempunyai 3 sisi dan 3 titik sudut.

*Hanger*  
.....  
.....  
.....  
.....

8,5

- c. Nama benda yang memiliki 2 pasang sisi yang berhadapan sama panjang dan sejajar

*Meja*  
.....  
.....  
.....  
.....

3,5

## POSTEST

Nama : Doni

Kelas :

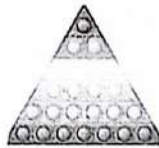
52,5

**I. Jawablah pertanyaan di bawah ini dengan cara memberikan tanda silang pada salah satu jawaban benar!**

1. Apa nama bangun datar yang memiliki satu sisi miring dan salah satu sudutnya berbentuk siku-siku?

☒ a. Segitiga siku-siku      b. Persegi      c. Lingkaran

2.



Toni mempunyai mainan berbentuk segitiga. Ketiga sisi mainan sama panjang. Ketiga pojoknya sama besar. Berbentuk bangun apakah mainan Toni tersebut?


a. Persegi panjang      b. Layang-layang      ☒ c. Segitiga sama sisi

3.



Nila membuat sapu tangan. Panjang masing-masing sisinya 20 cm. Keempat pojoknya siku-siku. Berbentuk bangun apakah sapu tangan yang dibuat Nila?

☒ a. Persegi      ☒ b. Segitiga siku-siku      c. Persegi panjang



4. Pak Arifin berkunjung ke Candi Dermo pada hari Minggu. Saat memasuki wilayah candi, Pak Arifin melihat ada sebuah taman berbentuk segiempat di depan Candi. Taman tersebut memiliki 2 pasang sisi yang berhadapan sama panjang dan sejajar serta memiliki 4 sudut siku-siku. Berbentuk bangun apakah taman yang dilihat Pak Arifin?

☒ a. Persegi panjang      b. Lingkaran      c. Jajar genjang

5.




Ibu mempunyai kue berbentuk segitiga. Kedua sisi kue itu sama panjang. Kedua pojoknya sama besar. Berbentuk apakah kue ibu tersebut?

☒ a. Segitiga sama kaki      b. Persegi panjang      c. Segitiga siku-siku

**II. Jawablah pertanyaan di bawah ini dengan cara mengisi titik-titik dengan jawaban yang benar!**

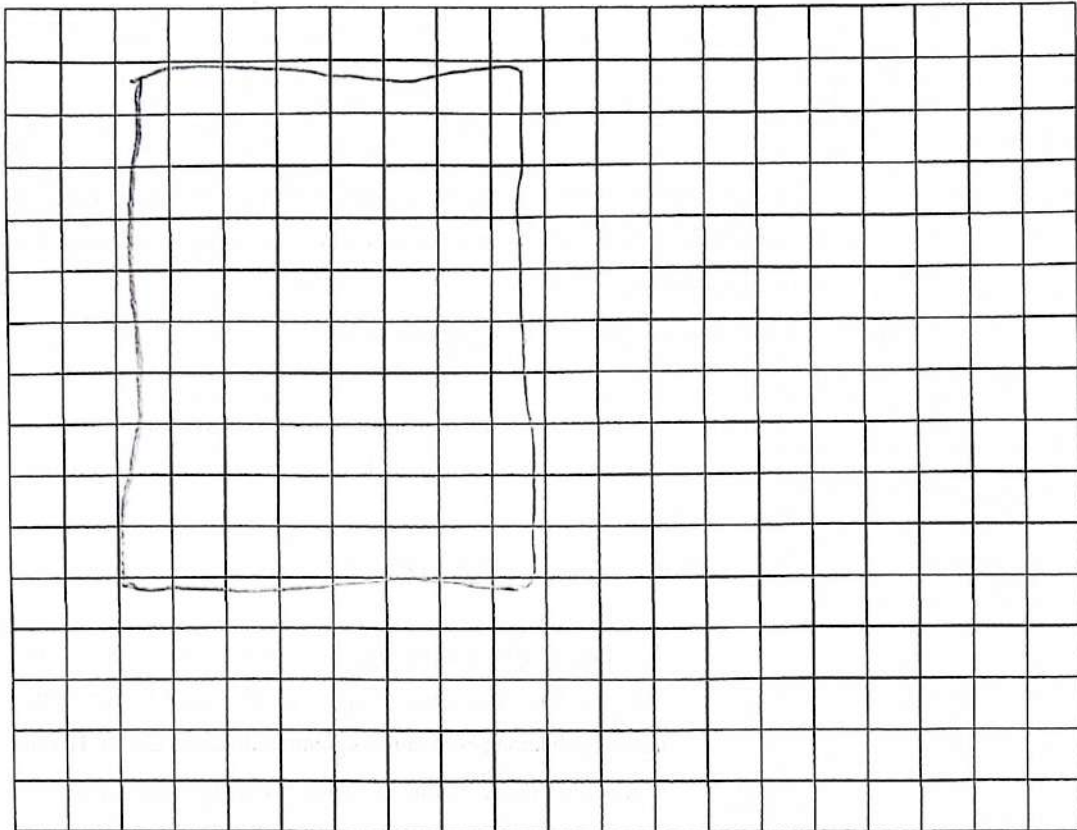


6. Arya dan Doni adalah pesilat hebat. Setiap berlatih silat, mereka selalu menggunakan seragam hitam, dan topi di kepala. Bentuk bangun datar yang ada pada topi Arya dan Doni adalah Segitiga 5

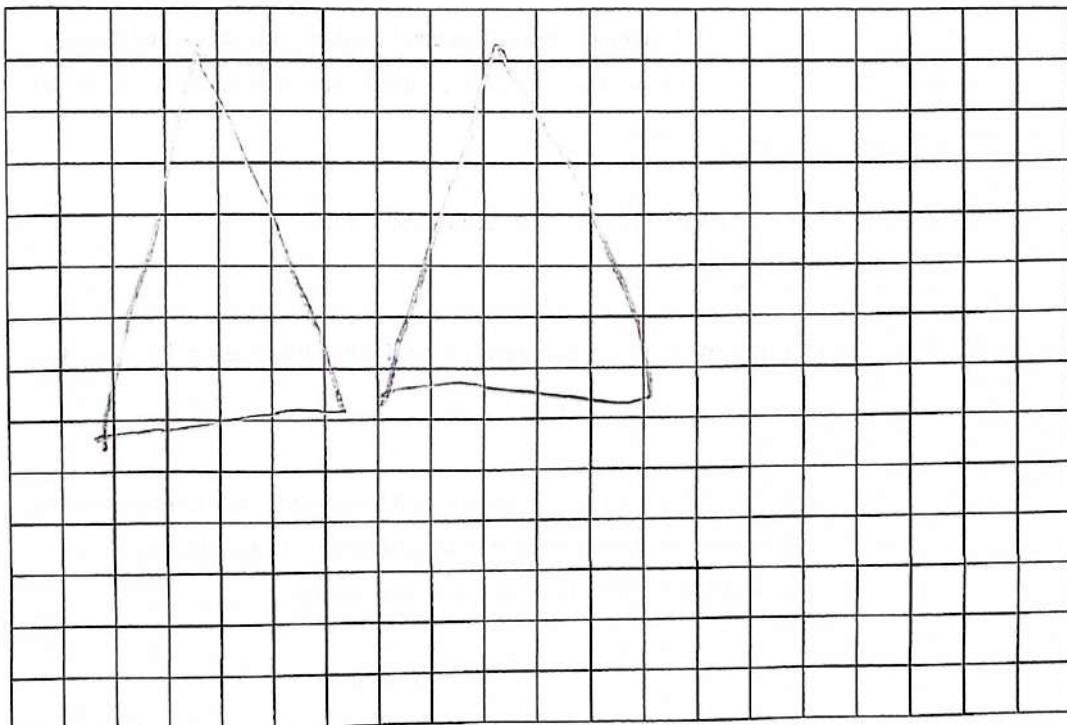


7. Gambar di samping adalah gambar anak tangga yang ada di Candi Dermo, bentuk bangun datar apa yang kamu temukan pada gambar anak tangga disamping? persegi panjang

8. Gambarlah bangun persegi dan bangun persegi panjang yang ukurannya berbeda, kemudian berikan keterangan nama bangun datar apa yang sudah kamu buat!




9. Gambarlah tiga macam segitiga yang kamu ketahui, kemudian berikan keterangan nama bangun datar apa yang sudah kamu buat!



10. Perhatikan gambar di bawah ini!



Lemari




Jendela



Pintu



Penggaris segitiga



Hanger (gantungan baju)



Jam dinding



Plafon eternit atap



Buku



Meja

Kumpulkan benda-benda di atas sesuai dengan sifat yang dimilikinya!

- a. Nama benda yang memiliki 4 sisi yang sama panjang dan memiliki 4 sudut siku-siku

815

Meja Plafon

- b. Nama benda yang mempunyai 3 sisi dan 3 titik sudut.

17

Penggaris segitiga Hanger Gantungan baju

- c. Nama benda yang memiliki 2 pasang sisi yang berhadapan sama panjang dan sejajar

7

Pintu Lemari